

2025年度 一般試験・前期 1月31日

国語総合・現代文B

試験時間	13:00～14:00
------	-------------

〔注意事項〕

I 問題用紙の取り扱い

1. 試験開始の指示があるまで、この問題用紙の中を見てはいけません。
2. 問題用紙は15ページです。試験開始後、ページを確認してください。
もし落丁・乱丁に気づいた場合は申し出てください。
(落丁……ページが欠落している。
乱丁……ページが正しくつづられていない。)
3. 試験終了後、問題用紙は持ち帰ってください。

II 解答用紙の取り扱い

解答用紙は、汚したり、折り曲げたりしないでください。解答用紙の記入は、次のとおりおこなってください。

1. 氏名欄には、**氏名**を記入し、**カタカナ**でふりがなをつけてください。
2. 受験番号欄には、**受験番号**をアルファベットまたは算用数字で**記入**し、さらにその下のマーク欄を**マーク**してください。受験番号のマークミスは無効答案となる場合がありますので注意してください。
3. 試験日欄は、**1月31日**のマーク欄に**マーク**してください。
4. 受験科目欄は、**国語総合・現代文B**のマーク欄に**マーク**してください。

マーク記入上の注意

- (1) 筆記用具は、かならずHBの黒鉛筆を使用してください。

記入例	良い例	悪い例
		    

- (2) 訂正する場合は、消しゴムできれいに消し、消しクズを残さないよう表裏ともよく払いおとしてください。
- (3) 所定欄以外には、何も記入しないでください。

III その他

1. 質問その他、必要がある時には、手を挙げて監督者に知らせてください。
2. 不正行為があれば直ちに退場を命じます。この場合全科目が無効となります。
3. 試験時間内での退場はできません。

国語総合・現代文B

解答番号

1

～

39

一

次の文章を読んで、後の問い（問一～問八）に答えなさい。

現在著作権処理中のため
非公開にしております。

**現在著作権処理中のため
非公開にしております。**

現在著作権処理中
のため非公開に
しております。

問一

a

｝

e

に入る最も適当なものを次の1～6からそれぞれ一つずつ選び、その番号をマークしなさい。ただし同じものを二回以上用いてはならない。解答番号はaは

1

bは

2

cは

3

dは

4

eは

5

1 公共的

2 近代的

3 典型的

4 経済的

5 多面的

6 功利的

問二

X

に入る最も適当なものを次の1～5から一つ選び、その番号をマークしなさい。解答番号は

6

1 自律した「初等教育システム」

2 唯一の「日本発モダンカルチャー」

3 知られざる「教育グローバルイズム」

4 独自の「隠れたカリキュラム」

5 希有な「知的なパッケージ」

問三

Y

に入る最も適当なものを次の1～5から一つ選び、その番号をマークしなさい。解答番号は

7

1 教育界全体の総意となり得るのかが問題だ

2 目的の一つとなってしまうてはいけない

3 経済界への無言の要求になってはならない

4 自律的な理念となり得ないことが残念だ

5 唯一の主要な原理になってしまうことが危険だ

問四

傍線部①「『教育の福音』」とあるが、ここではどのようなことを指しているか。その説明として**適当でないもの**を次の1～5から一つ選び、その番号をマークしなさい。解答番号は **8**。

- 1 多くの生徒が教育に触れたこと。
- 2 汎用的な普通教育が普及したこと。
- 3 広範な学習や知識が提供されたこと。
- 4 知識の詰め込み教育が相対化されたこと。
- 5 経済的な成功が広くもたらされたこと。

問五

傍線部②「職業世界の外側にあるもの」とは、どのようなものか。その説明として最も適当なものを次の1～5から一つ選び、その番号をマークしなさい。解答番号は **9**。

- 1 グローバルな社会的問題
- 2 個々が自由に使える時間
- 3 真理や常識への過信
- 4 日本的雇用の問題点
- 5 未来の自分の社会的地位

問六

傍線部③「戦前以来の受験生文化が、自家中毒を起こす事態になっている」とあるが、その説明として最も適当なものを次の1～5から一つ選び、その番号をマークしなさい。解答番号は **10**。

1 近代的な市民になる契機や教養の基礎を人々に提供してきた普通教育に飽き足らず、立身出世を望む学生がより職業教育に特化された教育をも同時に求めているということ。

2 戦前から存在したよい就職のための教育という考え方が過剰に学生たちに浸透した結果、学生自身がより職業主義的な教育を求めて現在の教育を否定しているということ。

3 戦争前には職業教育の枠を超えた広い視野を持つことのできた学生文化が、職業教育主義に洗脳され、より就職に有利となる実戦的な学習を求め始めているということ。

4 高学歴の人間が多くなる中でより高次な知識を得たいと考える学生が、戦前からあった専門性を重視する職業教育主義に洗脳され、より専門的な教育を求めているということ。

5 近代化を支えた職業教育は、進学的一般化によりその役割を終えたにもかかわらず、より確実な社会的成功をもたらす職業教育への要望は異常に高まっているということ。

問七

傍線部④「『よい教育』」とあるが、筆者の考える「よい教育」とはどのようなものか。その説明として最も適当なものを次の1～5から一つ選び、その番号をマークしなさい。解答番号は **11**。

1 学生に長期的な経済停滞の中でも生きていける経済的安定を供与することを第一としつつも、一方では、家族をその典型とする人間関係を重視することを身につけさせる教育。

2 現代の社会状況を踏まえ、個々の学生に将来の生活を安定的に維持できる知識や技能を身につかせつつも、人類や世界が抱える難題に関心を抱くような学生を育てる教育。

3 教える側が自分たちが教えるべきだと思う知識や教養を学生に自律的に教えることができ、一方学生もまた、それらを自分の将来の職業の選択に生かすことができる教育。

4 世間の関心が入り込まない時空の中で、教員と学生の双方が、職業教育主義とは無関係に、純粹に真理の探究を行うという、かつての大学に見られた自由で学究的な教育。

5 経済界の求める効率的な職業教育主義を否定しつつも、学習への動機づけとして学生に自分の未来の仕事を考えさせ、それと関連するグローバルな問題を取り上げていく教育。

問八

次のア～オについて、本文の内容に合致するものには1を、合致しないものには2をマークしなさい。解答番号は 12 ～ 16。

ア 単に日本の経済発展を目指す立場から教育の改革が求められているだけではなく、国際的な状況も教育の改革を求めている。

イ 近代の職業教育主義によって日本の進学率が上昇したことは確かだが、当時の学生の自主的な学習動機が低下したことも否めない。

ウ 日本の近代における職業教育主義は現実には日本に定着したと言えない面もあるが、学習者にとってプラスとなるものをもたらした。

エ 学校教育を将来の職業準備に向けたものと見なす考え方は不十分だけでなく、子どもの学習動機を奪うという問題を生じさせている。

オ かつて若者の夢だったよい就職が魅力のないものになったことが、学生が自らを子どものように受け身の立場に置く現象を引き起こした。

12

13

14

15

16

現在著作権処理中のため
非公開にしております。

**現在著作権処理中のため
非公開にしております。**

**現在著作権処理中のため
非公開にしております。**

問一

A

に入る最も適当なものを次の1～5から一つ選び、その番号をマークしなさい。解答番号は

17

。

1 「ここにいない人間」に媚^こびへつらうこと

2 「ここにいる人間」を激怒させようとすること

3 「ここにいない人間」と秘密で会話すること

4 「ここにいる人間」への苛^い立ちを話すこと

5 「ここにいない人間」の対応を優先すること

現在著作権処理中のため
非公開にしております。

問二

B

に入る最も適当なものを次の1～5から一つ選び、その番号をマークしなさい。解答番号は

18

1 明るく楽しい軽いつながり

2 あなたが一人で作った世界

3 人気者だけどなぜか孤独

4 つながっていても一人ぼっち

5 誰ともつながっていない悲しみ

問三

C

に入る最も適当なものを次の1～5から一つ選び、その番号をマークしなさい。解答番号は

19

1 いろいろなものを保留しながら、短いテキストやアクションで表面的な返答を順次していく

2 溢れるほどの情報の中で、自分の求めるサービスやコンテンツだけをしつこく探そうとする

3 さまざまな人たちと交流しながらも、コミュニケーションの本当の意味がわかっていない

4 誰が誰だかわからなくなり、人として最低限守るべきモラルを失っている自分にも気づかない

5 せわしない反応の中で、センスのあるフレーズやスタンプを見つけ大切な人に送ったりする

問四

D

に入る最も適当なものを次の1～5から一つ選び、その番号をマークしなさい。解答番号は

20

1 自らの悲しみに耐える力

2 一つのことを考え抜く力

3 寂しさを受け止める力

4 一人で生き抜いていく力

5 自分自身と対話する力

問五

傍線部①「物理的にある場所においても、実際には別のところにいる」とあるが、それはここではどういうことを言っているのか。その説明として最も適当なものを次の1～5から一つ選び、その番号をマークしなさい。解答番号は **21**。

- 1 ある場所においても自分には何もすることがない時には、好きなことをして気を紛らわすということ。
- 2 ある現実の空間にいたとしても、心理的には異なるところや情報などとつながっているということ。
- 3 肉体としての自分はある場所においても、本当の自分は架空の世界に存在するということ。
- 4 物や方法の制約はあるとしても、ある場所で他の場所でしたことのあることを行おうとすること。
- 5 自分の意に沿わない空間にいるときには、気持ちがそこから離れて違う世界をさまようということ。

問六

傍線部②「微妙な気持ち」とはどういう「気持ち」か。その説明として最も適当なものを次の1～5から一つ選び、その番号をマークしなさい。解答番号は **22**。

- 1 子どもと一緒に観てくれと何度言われたとしても、もう観たくないと思ってしまいう気持ち。
- 2 子どもは同じことを繰り返すのが好きだが、大人も同じだと思いう思慮のなさあきに呆れる気持ち。
- 3 子どもの望むとおり一緒に観てあげたいとは思いうものの、いささか辟易へきえきしてしまう気持ち。
- 4 子どもに対し、何でも自分の思い通りにはならないことを教えるよい機会だと思いう気持ち。
- 5 子どもは何度も観たがるのだが、この映画のどこがそんなに面白いのかと考え込む気持ち。

問七

傍線部③「技術は中立的なものだ」とあるが、ここではどういう意味か。その説明として最も適当なものを次の1～5から一つ選び、その番号をマークしなさい。解答番号は **23**。

- 1 人間によって作りだされたものであるテクノロジーが、人間自体を制御したり支配したりすることはありえないという意味。
- 2 テクノロジーはある種の主義主張や政治的思想のような、偏った考え方に基づいて作り出されたものではないという意味。
- 3 テクノロジーはある種の人間のためだけに存在するものではなく、すべての人々に平等に貢献するものであるという意味。
- 4 人間の感覚を超えるような機能を持つのが不可能であるテクノロジーは、ひたすら人間の命令に忠実な存在であるという意味。
- 5 テクノロジーは正・不正というような価値とは無関係であり、そうした価値を決定するのは人間自身であるという意味。

問八

本文の内容に合致するものを次の1～5から一つ選び、その番号をマークしなさい。解答番号は

24。

- 1 現代では、親族の葬式においてさえスマホを手離せない人間がおり、その上、葬式でスマホを使つてはいけない理由さえわからないという倫理的な破綻^{はた}が生じている。
- 2 現代においては、スマホなどのテクノロジーが10年もかからずに社会全体に普及していき、大人から子どもまでが短期間にそうした機器の操作方法を習得してしまう。
- 3 何かと常につながりあつていないと不安で仕方がない現代社会の中では、自分一人で過ごす時間が失われ、私たちは常に他人と一緒にいることを望むようになっていく。
- 4 私たちは日々私たちの注意を惹こうとする事物と出会うだけでなく、自らも外部の注意を惹こうとしており、そうした競争の中での人間関係に違和感を覚えている。
- 5 現代の哲学は心理学と共同研究を行い、常にスマホなどと結びついている常時接続という状態に着目し、そこに技術により変化するという新しい人間像を見いだそうとしている。

三

次のⅠ～Ⅲの各問いに答えなさい。

Ⅰ

A～Eの傍線部の漢字表記として適当なものはどれか。それぞれの1～5から一つずつ選び、その番号をマークしなさい。解答番号は

29。

A 彼はセツソウがない。

1 操 2 相 3 想 4 壮 5 創 25

B シツヨウにつきまとう。

1 室 2 失 3 執 4 湿 5 質 26

C 改革の機運がジヨウセイされる。

1 情 2 醸 3 条 4 丈 5 状 27

D テイよく断る。

1 定 2 停 3 締 4 体 5 程 28

E 反対者をカイジュウする。

1 回 2 解 3 改 4 懷 5 戒 29

Ⅱ

A～Eの()に入る最も適当なものを後の1～7からそれぞれ一つずつ選び、その番号をマークしなさい。ただし同じものを二回以上用いてはならない。解答番号は

30 34。

A 自分の心の()を記す。

B 少年の頬に()が浮かぶ。

C 将来に()を残す。

D ()をむさぼる。

E 友との間に()を生じる。

1 葛藤 2 含羞 3 杞憂 4 惰眠 5 爛漫 6 禍根 7 軋轢

34 33 32 31 30

Ⅲ A Ⅰ E の漢字を使って四字熟語を作る際に不必要となるものはどれか。それぞれの 1 ～ 5 から一つずつ選び、その番号をマークしなさい。解答番

号は
35
39。

E	D	C	B	A
1	1	1	1	1
抱	独	時	千	没
2	2	2	2	2
絶	我	早	留	神
3	3	3	3	3
罵	唯	期	笑	鬼
4	4	4	4	4
腹	個	尚	万	仏
5	5	5	5	5
倒	尊	季	止	出
39	38	37	36	35

国語終わり
解答番号
1
39

2025年度 一般試験・前期 1月31日

英 語

試験時間	11:00～12:00
------	-------------

〔注意事項〕

I 問題用紙の取り扱い

1. 試験開始の指示があるまで、この問題用紙の中を見てはいけません。
2. 問題用紙は9ページです。試験開始後、ページを確認してください。
もし落丁・乱丁に気づいた場合は申し出てください。
(落丁……ページが欠落している。
乱丁……ページが正しくつづられていない。)
3. 試験終了後、問題用紙は持ち帰ってください。

II 解答用紙の取り扱い

解答用紙は、汚したり、折り曲げたりしないでください。解答用紙の記入は、次のとおりおこなってください。

1. 氏名欄には、**氏名**を記入し、**カタカナ**でふりがなをつけてください。
2. 受験番号欄には、**受験番号**をアルファベットまたは算用数字で**記入**し、さらにその下のマーク欄を**マーク**してください。受験番号のマークミスは無効答案となる場合がありますので注意してください。
3. 試験日欄は、**1月31日**のマーク欄に**マーク**してください。
4. 受験科目欄は、**英語**のマーク欄に**マーク**してください。

マーク記入上の注意

- (1) 筆記用具は、かならずHBの黒鉛筆を使用してください。

記入例	良い例	悪い例
		

- (2) 訂正する場合は、消しゴムできれいに消し、消しクズを残さないよう表裏ともよく払いおとしてください。
- (3) 所定欄以外には、何も記入しないでください。

III その他

1. 質問その他、必要がある時には、手を挙げて監督者に知らせてください。
2. 不正行為があれば直ちに退場を命じます。この場合全科目が無効となります。
3. 試験時間内での退場はできません。

英 語

解答番号 1 ~ 38

I 次の英文を読んで、下の問いに答えなさい。

Today is Juneteenth in the United States. The holiday is over 150 years old, but it is still unknown to many people. It ① marks the abolition of slavery in the country and celebrates the promise of freedom.

The word “Juneteenth” combines the month “June” with the number “19.” It recalls June 19, 1865, the day *troops from *the Union side of *the American Civil War arrived in the city of Galveston, Texas. At that time, Texas was part of *the Confederate States of America, the group of Southern states fighting the Union for the right to keep slaves. The 250,000 enslaved people in Texas did not know that the president at the time, Abraham Lincoln, had declared them legally free. In fact, Lincoln had declared them legally free more than two years earlier on January 1, 1863.

But Texas was in the far west of the country and removed from much of the fighting. Few Union soldiers were there to communicate or enforce Lincoln’s order. Confederate *slaveholders ② strongly objected to it. They did not want to lose the labor they got for free. So, no one told the enslaved people until June 19, when a Union *general and a few thousand soldiers arrived to take control of the area. The general quickly read an announcement. He informed the people that the Union had won the Civil War and that “all slaves are free.”

Many formerly enslaved people immediately began to celebrate. As soon as they could, some left Texas and joined family members in other states. Some remained and built new lives. They remembered June 19 in the years that followed. In time, their children and grandchildren celebrated it as a holiday, too.

Historically, Juneteenth has involved cooking and eating outdoors, listening to music, saying prayers and wearing nice clothes. Betty Anderson, who is a descendant of enslaved people, said the day includes stories about people who continued to fight for equal rights because “freedom from slavery did not bring freedom for the African-American.” Historian Henry Louis Gates Jr. ③ echoed that point. He said one of the important things about Juneteenth is that it is a positive, powerful celebration, even in the face of discrimination. For example, in the late 1800s and early 1900s, Texas officials refused to permit black people to gather in public spaces. So, black families and friends celebrated Juneteenth near rivers and lakes, Gates said. In time, they

bought their own parks where they could celebrate. During the country's Civil Rights movement of the 1950s and 1960s, some Black Americans and activists *embraced Juneteenth as a way to connect them to Black history.

Texas became the first state to declare the day an official state holiday in 1980. In June 2021, U.S. President Joe Biden declared Juneteenth as the country's newest national holiday. Biden said it was a day to "remember the moral *stain of slavery on our country and ④ **the terrible toll it has taken.**" He added, "But it is a day that also reminds us of our incredible capacity to heal, hope, and emerge from our darkest moments with purpose and resolve."

(注) troops : (軍の) 部隊 the Union : (アメリカ南北戦争時の) 北軍

the American Civil War : アメリカ南北戦争

the Confederate States of America : (アメリカ南北戦争時の) 南部連合国

slaveholder : 奴隷所持者 general : 司令官 embrace : 受け入れる stain : 汚点

問1 本文の下線部①～④の意味・内容に最も近いものを1～4からそれぞれ1つ選び、その番号をマークしなさい。 ① 1 ~ ④ 4

① ①

1 celebrates the system

2 improves the image

3 represents the beginning

4 signifies the end

② ②

1 lost interest in it

2 protested against it

3 were unaware of it

4 were in favor of it

③ ③

1 criticized her attitude

2 presented his own argument

3 agreed with what she said

4 questioned her beliefs

④ ④

1 the public attention it has attracted

2 the remarkable progress it has achieved

3 the wonderful opportunities it has created

4 the enormous damage it has done

問2 本文の内容と照らし合わせて、次の問い(1)・(2)に対する答えとして最も適当なものを1～4からそれぞれ1つ選び、その番号をマークしなさい。 5 ・ 6

(1) Why did the 250,000 enslaved people in Texas not know that they were legally free? 5

- 1 They couldn't read the Union general's announcement.
- 2 They were fighting the Union for the right to keep slaves.
- 3 They were far away from a lot of the fighting.
- 4 They were under the control of a few thousand soldiers.

(2) What happened in Texas starting in the late 1800s? 6

- 1 Black people celebrated Juneteenth by rivers and lakes.
- 2 Texas declared Juneteenth a national holiday.
- 3 Texas banned all public gatherings.
- 4 Troops from the Union side of the Civil War arrived in Galveston.

問3 次の英文(1)～(4)について、本文の内容と一致するものには1、一致しないものには2の番号をそれぞれマークしなさい。 7 ～ 10

(1) Abraham Lincoln freed people from slavery. 7

(2) Some formerly enslaved people left Texas, while some stayed behind. 8

(3) Traditionally, people have dressed up for Juneteenth. 9

(4) President Biden said America's newest national holiday was its darkest. 10

(5) 15

A : Oh no, my wallet's missing.

B : Are you sure it's not in one of your pockets?

A : () It must've been stolen on the train.

1 I've already checked.

2 I forgot to call the train station.

3 Take your hands out of your pockets! 4 You should've been more careful.

(6) 16

A : Are you sure you wouldn't like another serving?

B : Thank you, Ms. Baker, but I couldn't eat another bite. ()

A : I'm glad you enjoyed it. You'll have to come over for Christmas dinner.

1 It was a marvelous Christmas dinner. 2 I'll help myself to a slice of turkey.

3 It was delicious, though.

4 I'm sorry I wasn't a better host.

(7) 17

A : Excuse me, would you like to sit down?

B : That's very kind of you, but I don't mind standing.

A : () Besides, I'm getting off at the next station.

1 There's no need to apologize.

2 I absolutely insist.

3 Is this seat taken?

4 Was I rude to you?

(8) 18

A : What time is the last train? I don't want to miss it.

B : It leaves at midnight. It's about a fifteen-minute walk to the station.

A : () Otherwise, I'll have to take a taxi.

1 Is there a train station nearby?

2 I don't suppose you can lend me some money?

3 I'd better get going then.

4 I must have dropped my wallet in the taxi.

(9) **19**

A : Excuse me, I'd like to return this watch.

B : We don't usually accept returns. What's wrong with it?

A : () I've tried resetting it, but it still doesn't work.

1 It doesn't keep time properly.

2 It doesn't have a battery.

3 There's nothing wrong with it.

4 It's a lovely design.

(10) **20**

A : What are your plans for the summer vacation?

B : I'm going to visit my grandparents in the U.K. How about you?

A : () I'll probably get a part-time job.

- | | |
|---|-------------------------------------|
| 1 I already work in a local restaurant. | 2 I've already made concrete plans. |
| 3 I don't need any money now. | 4 I haven't made up my mind yet. |

(11) **21**

A : Have you got a pet? I'm considering getting a dog.

B : Dogs are great. ()

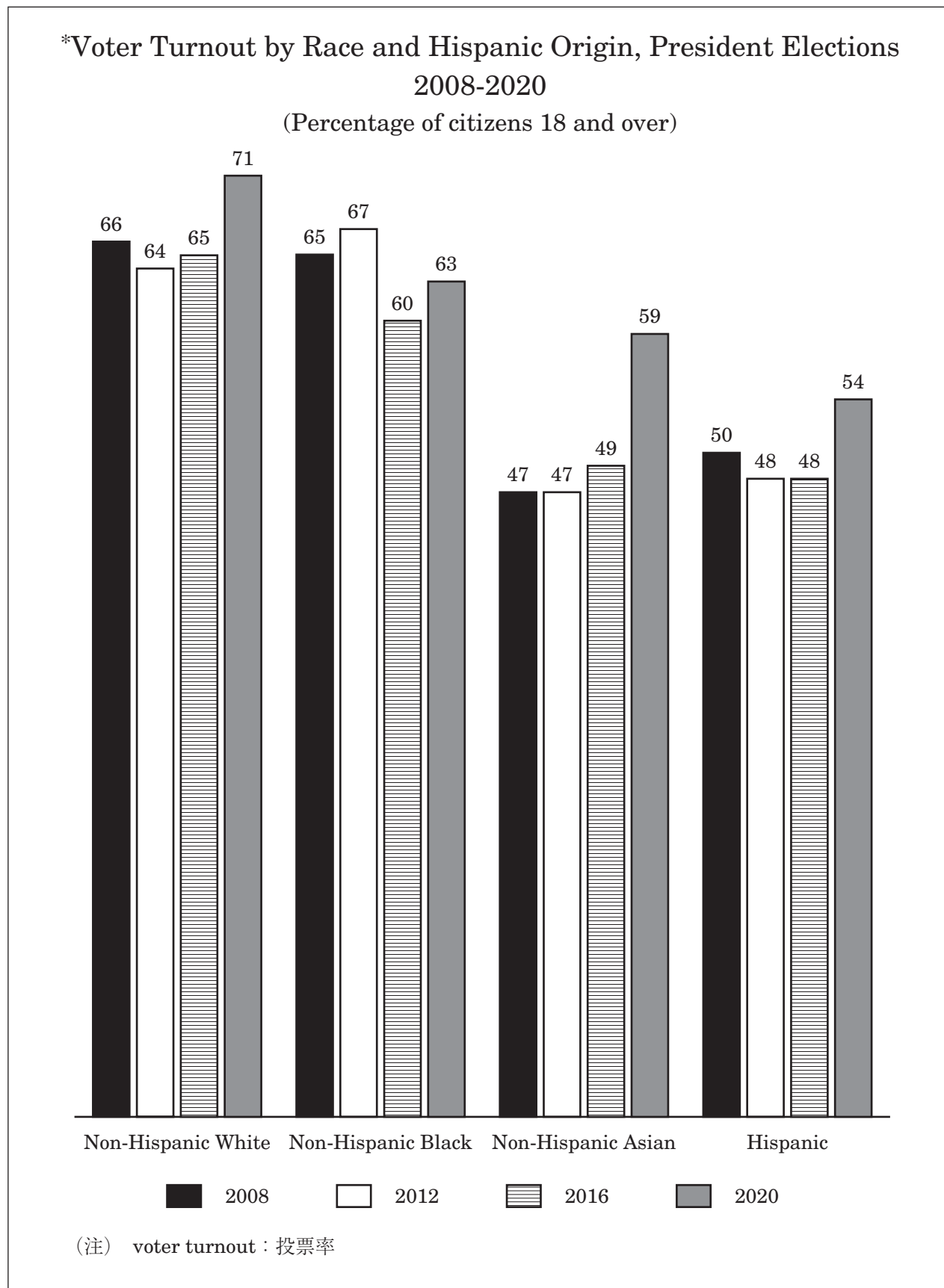
A : That's what I'm worried about. Maybe I'll get a cat instead.

- | | |
|-------------------------------------|---|
| 1 They don't need regular walks. | 2 They need a lot of attention, though. |
| 3 They're just as friendly as cats. | 4 They're really easy to train. |

Ⅲ 次の英文 (1) ～ (12) について、空所に入る最も適当なものを 1 ～ 4 からそれぞれ 1 つ選び、その番号をマークしなさい。 22 ～ 33

- (1) A number of passengers () in the train accident. 22
1 was injuring 2 were injuring 3 was injured 4 were injured
- (2) Instead of () prices, why doesn't the company cut costs? 23
1 raising 2 raise 3 have raised 4 to raise
- (3) The more people join the party, () we have. 24
1 the more fun 2 the much fun 3 more fun 4 much fun
- (4) Could you () the experience with us? 25
1 talk 2 give 3 say 4 share
- (5) He succeeded () the exam after months of hard work. 26
1 to pass 2 passing 3 to passing 4 in passing
- (6) We must avoid making him angry at () costs. 27
1 many 2 some 3 all 4 few
- (7) When I woke up, it was raining (). 28
1 hardly 2 heavy 3 hard 4 violent
- (8) Don't () them do something they don't want to do. 29
1 ask 2 force 3 make 4 tell
- (9) At last, he came up () a good idea. 30
1 by 2 with 3 on 4 to
- (10) Could you put the tools () after you've finished using them? 31
1 up 2 away 3 off 4 over
- (11) Cigarette smoking can contribute () lung disease. 32
1 in 2 for 3 to 4 over
- (12) We gave up the project due to () of money. 33
1 lack 2 small 3 out 4 little

Ⅳ 次のグラフを見て、下の問いに答えなさい。



問 グラフの内容と照らし合わせて、次の英文（１）～（５）の空所に入る最も適当なものを１～４からそれぞれ１つ選び、その番号をマークしなさい。 **34** ～ **38**

（１） Between 2008 and 2020, voter turnout among () fell slightly before rising constantly. **34**

- | | |
|-----------------------|-----------------------|
| 1 non-Hispanic whites | 2 non-Hispanic blacks |
| 3 non-Hispanic Asians | 4 Hispanics |

（２） In three of the groups, voter turnout peaked in (). **35**

- | | | | |
|--------|--------|--------|--------|
| 1 2008 | 2 2012 | 3 2016 | 4 2020 |
|--------|--------|--------|--------|

（３） Non-Hispanic white voter turnout was higher than non-Hispanic black voter turnout in () of the elections. **36**

- | | | | |
|------------|-------|---------|-------------|
| 1 only one | 2 two | 3 three | 4 every one |
|------------|-------|---------|-------------|

（４） () saw the largest increase in voter turnout between the 2016 and 2020 elections.

37

- | | |
|-----------------------|-----------------------|
| 1 Non-Hispanic whites | 2 Non-Hispanic blacks |
| 3 Non-Hispanic Asians | 4 Hispanics |

（５） Among (), voter turnout was the same in consecutive elections. **38**

- | |
|---|
| 1 non-Hispanic whites and non-Hispanic blacks |
| 2 non-Hispanic blacks and non-Hispanic Asians |
| 3 non-Hispanic Asians and Hispanics |
| 4 Hispanics and non-Hispanic blacks |

2025年度 一般試験・前期 1月31日

選 択 科 目

試 験 時 間	1 4 : 4 0 ~ 1 5 : 4 0
---------	-----------------------

下記の3教科4科目から、1科目を選択してください。

日本史B、世界史B、政治・経済、数学Ⅰ・数学A

〔注意事項〕

I 問題用紙の取り扱い

1. 試験開始の指示があるまで、この問題用紙の中を見てはいけません。
2. 問題用紙は47ページです。試験開始後、ページを確認してください。
各科目のページは以下のとおりです。

日本史B P. 1～P. 14

世界史B P. 15～P. 24

政治・経済 P. 25～P. 42

数学Ⅰ・数学A P. 43～P. 47

もし落丁・乱丁に気づいた場合は申し出てください。

(落丁……ページが欠落している。
乱丁……ページが正しくつづられていない。)

3. 試験終了後、問題用紙は持ち帰ってください。

II 解答用紙の取り扱い

解答用紙は、汚したり、折り曲げたりしないでください。解答用紙の記入は、次のとおりおこなってください。

1. 氏名欄には、**氏名**を記入し、**カタカナ**でふりがなをつけてください。
2. 受験番号欄には、**受験番号**をアルファベットまたは算用数字で**記入**し、さらにその下のマーク欄を**マーク**してください。受験番号のマークミスは無効答案となる場合がありますので注意してください。
3. 試験日欄は、**1月31日**のマーク欄に**マーク**してください。
4. 受験科目欄は、**選択した科目**のマーク欄に**マーク**してください。

マーク記入上の注意

- (1) 筆記用具は、かならずHBの黒鉛筆を使用してください。

記入例	良い例	悪い例
		     

- (2) 訂正する場合は、消しゴムできれいに消し、消しクズを残さないよう表裏ともよく払いおとしてください。
- (3) 所定欄以外には、何も記入しないでください。

III その他

1. 質問その他、必要がある時には、手を挙げて監督者に知らせてください。
2. 不正行為があれば直ちに退場を命じます。この場合全科目が無効となります。
3. 試験時間内での退場はできません。

日本史 B

解答番号 1 ～ 42

I 古代・中世についての以下の文章A～Cを読んで、それぞれの設問に答えなさい。史料は一部省略したり、書き改めたりしたところもある。

A 古代では、外交使節に伴われて中国や朝鮮半島へ渡った僧侶がいる一方、来日した僧侶も数多くいた。
 (①－ア)の時代に派遣が始まった遣隋使では、608年に遣隋使の(①－イ)に随行して南淵請安・旻らの
 学問僧が隋にわたり、中国の制度・思想・文化についての新知識を伝えた。舒明天皇の時代の630年
 に派遣が始まった遣唐使^②では、奈良時代には玄昉^③らの僧侶が遣唐使に随行して渡唐した。一方、唐から
 は鑑真^④らの僧侶が来日して奈良仏教の発展に貢献した。平安時代には最澄・空海^⑤らが遣唐使に随行して
 渡唐し、日本に新たな仏教を伝えた。

問1 空欄(①－ア)・(①－イ)に入る語句の組合せとして正しいものを、次の1～4から一つ選びなさい。

1

- | | |
|------------------|-----------------|
| 1 アー推古天皇・イー犬上御田鍬 | 2 アー推古天皇・イー小野妹子 |
| 3 アー孝徳天皇・イー犬上御田鍬 | 4 アー孝徳天皇・イー小野妹子 |

問2 下線部②に関連して、8世紀の遣唐使に関して述べた文として誤っているものを、次の1～4から一つ選びなさい。

2

- 1 日本からの遣唐使は、ほぼ20年に一度の割合で派遣された。
- 2 日本は唐からの冊封を受けなかったが、実質的には唐に臣従する朝貢であった。
- 3 航路は初め南路がとられたが、新羅との関係変化で北路が中心となった。
- 4 唐からは、高級織物や銀器・楽器などがもたらされた。

問3 下線部③に関連して、玄昉を重用した政権担当者を、次の1～4から一人選びなさい。

3

- | | | | |
|---------|------|-------|-------|
| 1 藤原不比等 | 2 道鏡 | 3 橘諸兄 | 4 長屋王 |
|---------|------|-------|-------|

問4 下線部④に関連して、次の史料は鑑真に関するものである。この史料に関して述べた下の文X・Yについて、その正誤の組合せとして正しいものを、下の1～4から一つ選ばさい。

4

史料

…「朕^{われ}此の東大寺を造りて十余年を経、戒壇を立てて戒律を伝受せんと欲す。自ら此の心有りて日夜忘れず、今諸大徳遠く来りて戒を伝ふ。冥^{ふか}く朕の心に契^{かな}ふ。今より以後、戒を受け律を伝ふこと、一^{もは}ら和上に任ねむ」と。…其の年四月、初めて盧舎那仏殿の前に戒壇を立つ。天皇初めて壇に登り、菩薩戒を受けたまふ。

(唐大和上東征伝)

X 史料中の「朕」とは称徳天皇を指し、称徳天皇は戒律伝授の施設を設立することを鑑真に求めた。

Y 史料中の「盧舎那仏殿」とは鑑真の創建した唐招提寺を指し、鑑真は唐招提寺に初めて戒壇を設けた。

1 X - 正 Y - 正

2 X - 正 Y - 誤

3 X - 誤 Y - 正

4 X - 誤 Y - 誤

問5 下線部⑤に関して述べた次の文a～dについて、正しいものの組合せを、下の1～4から一つ選ばさい。

5

- a 最澄は、新しく独自の大乘戒壇の創設を目指した。
- b 最澄は、平安京の教王護国寺を与えられて天台宗の本山とした。
- c 空海は、『三教指帰』を著して儒教・道教に対する仏教の優位を論じた。
- d 空海の弟子円仁は、最後の遣唐使船に乗って唐にわたった。

1 a・c

2 a・d

3 b・c

4 b・d

B 唐が滅亡し、そのあとに中国を再統一した宋と日本では、日宋貿易が展開された。鎌倉時代に入ると多くの禅僧が中国と日本のあいだを往来した。12世紀末に南宋に渡った天台の僧^⑥榮西は公家や幕府有力者の帰依を受けて、のちに臨済宗の開祖と仰がれた。鎌倉幕府は臨済宗を重んじ、南宋から来日した^⑦蘭溪道隆・無学祖元ら多くの禅僧を招いて保護した。榮西の弟子に学んだ^⑧道元は、南宋に渡って禅を学び、曹洞宗を広く地方に広めた。その後、中国大陸を統一した元からも、^⑨元寇のあとに禅僧の一山一寧が来日した。^⑩

問6 下線部⑥に関連して、日宋関係に関して述べた文として正しいものを、次の1～4から一つ選びなさい。

6

- 1 日本と宋とのあいだでは、国書や使節の往来を通して貿易が展開された。
- 2 平安時代には、日本からは空也や源信らが宋に渡り、浄土宗をもたらした。
- 3 平清盛は瀬戸内海の兵庫北関を掌握するなどして日宋貿易を推進した。
- 4 日宋貿易によってもたらされた宋銭は、日本国内の貨幣経済の発展をもたらした。

問7 下線部⑦に関連して、栄西が著した書物を、次の1～4から一つ選びなさい。

7

- 1 『教行信証』
- 2 『立正安国論』
- 3 『興禅護国論』
- 4 『歎異抄』

問8 下線部⑧に関して述べた次の文X・Yについて、その正誤の組合せとして正しいものを、下の1～4から一つ選びなさい。

8

X 蘭溪道隆は、国土安穩を祈る目的で安国寺の建立を鎌倉幕府にすすめた。

Y 無学祖元は、執権北条時宗の招きで南宋から来日し、鎌倉に円覚寺を開いた。

- | | | | |
|-------|-----|-------|-----|
| 1 X－正 | Y－正 | 2 X－正 | Y－誤 |
| 3 X－誤 | Y－正 | 4 X－誤 | Y－誤 |

問9 下線部⑨に関連して、道元の教えを、次の1～4から一つ選びなさい。

9

- 1 只管打坐
- 2 題目唱和
- 3 公案問答
- 4 専修念佛

問10 下線部⑩に関連して、元寇を含む日元関係に関して述べた次の文Ⅰ～Ⅲについて、古いものから年代順に正しく配列したものを、下の1～6から一つ選びなさい。

10

- Ⅰ 幕府が元軍の再度の襲来に備えて防塁を構築させた。
- Ⅱ 幕府が建長寺修造の資金を得ようと建長寺船を元に派遣した。
- Ⅲ 元軍が高麗における三別抄の乱を鎮圧した翌年に日本に襲来した。

- | | | |
|---------|---------|---------|
| 1 Ⅰ－Ⅱ－Ⅲ | 2 Ⅰ－Ⅲ－Ⅱ | 3 Ⅱ－Ⅰ－Ⅲ |
| 4 Ⅱ－Ⅲ－Ⅰ | 5 Ⅲ－Ⅰ－Ⅱ | 6 Ⅲ－Ⅱ－Ⅰ |

C 室町時代、中国を統一した明に対して1401年に日本から遣明船が初めて派遣され、そのときに使節となったのが僧侶であった。日明貿易が展開されるなか、寺院も遣明船を派遣し、遣明船の正使・副使には五山関係の僧侶が選ばれた。その一人の策彦周良は、(13-ア)に勝利して貿易を独占した(13-イ)の庇護のもとで遣明船の使節となって入明した。また、雪舟も明に渡って作画技術を学び、帰国後には日本的な水墨画様式を創造した。

問11 下線部⑪に関連して、次の史料は遣明船の派遣に関するものである。この史料に関して述べた下の文X・Yについて、その正誤の組合せとして正しいものを、下の1～4から一つ選びなさい。 11

史料

日本准三后某、書を大明皇帝陛下に上る。日本国開闢以来、聘問を上邦に通ぜざること無し。某、幸にも国鈞を乗り、海内に虞れ無し。特に往古の規法に遵ひて、肥富をして [] に相副へしめ、好を通じて方物を献ず。…

(善隣国宝記)

X 史料中の「日本准三后某」とは、足利義満をさす。

Y 史料中の [] には、正使として派遣された「祖阿」が入る。

1 X - 正 Y - 正

2 X - 正 Y - 誤

3 X - 誤 Y - 正

4 X - 誤 Y - 誤

問12 下線部⑫に関連して、五山に関して述べた文として誤っているものを、次の1～4から一つ選びなさい。 12

- 1 鎌倉幕府が創始した官寺の制を継承して、五山・十刹の制が整備された。
- 2 京都の南禅寺を五山の上におき、京都と鎌倉にそれぞれ五山がおかれた。
- 3 室町幕府は、僧録において五山の官寺を管理して住職などを任命した。
- 4 五山の禅僧は、宋学の研究や漢詩文の創作、五山版の出版などを行った。

問13 空欄(13-ア)・(13-イ)に入る語句の組合せとして正しいものを、次の1～4から一つ選びなさい。 13

1 アー三浦の乱・イー細川氏

2 アー三浦の乱・イー大内氏

3 アー寧波の乱・イー細川氏

4 アー寧波の乱・イー大内氏

問14 下線部⑭の水墨画作品を、次の1～4から一つ選びなさい。

14

- 1 瓢鮎図 2 秋冬山水図 3 洛中洛外図屏風 4 山水図屏風

Ⅱ 近世についての以下の文章A～Cを読んで、それぞれの設問に答えなさい。史料は一部省略したり、書き改めたりしたところもある。

A 3代将軍徳川家光の時代は、幕府の職制が整備されるなど、幕藩体制がほぼ完備した時代であった。
 一方、この時代には1641年から翌年にかけて江戸時代最初の大飢饉である（ ② ）の飢饉が発生した。
 この飢饉は西日本の干ばつと東日本の長雨・冷害によるもので、多くの餓死者が出た。幕府は本百姓体
 制の維持をはかる法令を出すなどして対応をはかり、諸藩でも新たな対策がとられた。

問1 下線部①に関連して、幕府の職制に関して述べたものとして誤っているものを、次の1～4から一つ選びなさい。

15

- 1 各役職には、原則として数名の譜代大名・旗本らが就任した。
- 2 老中は政務を統轄し、若年寄は老中を補佐して旗本・御家人を監察した。
- 3 江戸町奉行・大坂町奉行・京都町奉行は三奉行と総称された。
- 4 幕府直轄領には、郡代や代官などが派遣され、勘定奉行が統轄した。

問2 空欄（ ② ）に入る語句を、次の1～4から一つ選びなさい。

16

- | | | | |
|------|------|------|------|
| 1 慶長 | 2 元和 | 3 寛永 | 4 文禄 |
|------|------|------|------|

問3 下線部③に関連して、次の史料1・2は幕府が本百姓体制を維持するために出した法令の一部である。これらの史料に関して述べた下の文X・Yについて、その正誤の組合せとして正しいものを、下の1～4から一つ選びなさい。

17

史料1

一 身上能き百姓は田地を買い取り、弥宜く成り、身軀成らざる者は田畠沽却せしめ、猶々身上成るべからざるの間、向後田畠売買停止為るべき事。…

(御触書寛保集成)

史料2

覚

- 一 来年より御料・私領共に、本田にたばこ作り申間敷旨、仰せ出され候。…
- 一 田方に木綿作り申間敷事。
- 一 田畑ともに油の用として菜種作り申間敷候事。…

(教令類纂)

X 史料1は、分割相続による田地の細分化を防止するために出されたものである。

Y 史料2は、百姓に対して商品作物のたばこ・菜種などの栽培を制限したものである。

1 X－正 Y－正

2 X－正 Y－誤

3 X－誤 Y－正

4 X－誤 Y－誤

問4 下線部④に関連して、加賀藩では農地を直接支配する改作法が実施された。その藩主を、次の1～4から一人選びなさい。

18

- 1 保科正之 2 前田綱紀 3 上杉治憲 4 佐竹義和

B 老中田沼意次の時代には、幕府財政を再建するために商業重視の政策や長崎貿易の振興などがはかられた。一方、その時代の終わりには天明の飢饉が発生した。1782年の冷害から始まった飢饉は翌年の(⑥－ア)の大噴火を経て数年におよぶ大飢饉となり、東北地方を中心に多数の餓死者を出した。こうしたなか全国で数多くの百姓一揆が起こり、江戸や大坂では激しい打ちこわしが発生した。その天明の大飢饉を克服するために、老中松平定信による寛政の改革では(⑥－イ)などの政策が展開された。

問5 下線部⑤に関して述べた次の文X・Yについて、その正誤の組合せとして正しいものを、下の1～4から一つ選びなさい。

19

X 株仲間を広く公認し、運上や冥加などの税の増収をめざした。

Y 銅や俵物を輸出し、貨幣鑄造のための金・銀の輸入をはかった。

1 X－正 Y－正

2 X－正 Y－誤

3 X－誤 Y－正

4 X－誤 Y－誤

問6 空欄(⑥－ア)・(⑥－イ)に入る語句の組合せとして正しいものを、次の1～4から一つ選びなさい。

20

1 ア－富士山・イ－上米の制

2 ア－富士山・イ－囲米の制

3 ア－浅間山・イ－上米の制

4 ア－浅間山・イ－囲米の制

問7 下線部⑦に関連して、17世紀末になると、全村民が領主に強訴する大規模な百姓一揆が各地でみられるようになった。その百姓一揆を、次の1～4から一つ選びなさい。

21

1 世直し一揆

2 惣百姓一揆

3 代表越訴型一揆

4 村方騒動

C 11代将軍徳川家斉は、1837年に将軍職を徳川家慶にゆずったあとも大御所として1841年まで実権を掌握し続けた。その時代の1832～33年には凶作となり、全国的な米不足をまねき、1838年にかけて天保の飢饉が発生した。その飢饉のなか、1837年には大塩平八郎が武装蜂起した。一方、水戸藩主徳川斉昭が戊戌封事と称される上申書を幕府に提出し、そのなかで内憂外患の状況が深まるのをみて幕府に改革を要求した。このような内憂外患に対応するために、老中水野忠邦は天保の改革を行った。

問8 下線部⑧に関連して、大塩平八郎や大塩の乱に関して述べた次の文X・Yと、それに該当する語句a～dとの組合せとして正しいものを、下の1～4から一つ選びなさい。

22

X 大坂町奉行の元与力で陽明学者の大塩平八郎は、引退後、家塾で学問を教えていた。

Y 大塩の乱に呼応して、窮民救済をめざした蜂起が越後柏崎でも起きた。

a 洗心洞

b 古義堂

c 生田万

d 竹内式部

1 X－a Y－c

2 X－a Y－d

3 X－b Y－c

4 X－b Y－d

問9 下線部⑨に関連して、「内憂」とは大塩の乱などの国内混乱をさし、「外患」とは列強接近などの対外的危機をさしている。「外患」である列強接近に関して述べた次の文Ⅰ～Ⅲについて、古いものから年代順に正しく配列したものを、下の1～6から一つ選びなさい。

23

- Ⅰ アメリカの商船が浦賀沖に接近し、日本に通交を求めようとした。
- Ⅱ 幕府が外国船を撃退するように命じた法令を出した。
- Ⅲ イギリスの軍艦が長崎湾に侵入した。

- | | | | | | |
|---|-------|---|-------|---|-------|
| 1 | Ⅰ－Ⅱ－Ⅲ | 2 | Ⅰ－Ⅲ－Ⅱ | 3 | Ⅱ－Ⅰ－Ⅲ |
| 4 | Ⅱ－Ⅲ－Ⅰ | 5 | Ⅲ－Ⅰ－Ⅱ | 6 | Ⅲ－Ⅱ－Ⅰ |

問10 下線部⑩に関して述べた文として誤っているものを、次の1～4から一つ選びなさい。

24

- 1 国防強化のために江戸湾に台場を築かせた。
- 2 人返しの法によって江戸に流入した貧民を強制的に帰郷させた。
- 3 物価の引き下げを期待して株仲間の解散を命じた。
- 4 人情本の代表的作家である為永春水を処罰した。

Ⅲ 近現代についての以下の文章A～Dを読んで、それぞれの設問に答えなさい。史料は一部省略したり、書き改めたりしたところもある。

A 民撰議院設立建白書の提出を機に自由民権運動がはじまった。その民権運動をおさえるために、政府は1875年に(②-ア)を制定した。その結果、多くの新聞や雑誌が影響を受けることになった。その後、国会期成同盟が結成されて国会開設運動が盛り上がると、政府は1880年に(②-イ)を出した。やがて国会開設の時期が近づくと、民権派によって大同団結運動が起こり、さらに井上馨外相の条約改正交渉の失敗を機に三大事件建白運動が起きると、政府は1887年に(②-ウ)を出した。

問1 下線部①に関連して、次の史料は民撰議院設立建白書の一部である。この史料に関して述べた下の文X・Yについて、その正誤の組合せとして正しいものを、下の1～4から一つ選びなさい。 25

史料

臣等伏シテ方今政権ノ帰スル所ヲ察スルニ、上帝室ニ在ラス、下人民ニ在ラス、而シテ独り有司ニ帰ス。…乃チ之ヲ振救スルノ道ヲ講求スルニ、唯天下ノ公議ヲ張ルニ在ル而已。天下ノ公議ヲ張ルハ、民撰議院ヲ立ルニ在ル而已。…

(日新真事誌)

X 史料中の「臣等」は、明治六年の政変で敗れて下野した西郷隆盛・板垣退助・後藤象二郎らの征韓派前参議をさす。

Y 史料中の「有司」とは、大久保利通らの政府官僚を指し、民権派は有司専制の弊害を批判して天下の公論にもとづく政治を行うための議会設立を求めた。

1 X - 正 Y - 正

2 X - 正 Y - 誤

3 X - 誤 Y - 正

4 X - 誤 Y - 誤

問2 空欄(②-ア)・(②-イ)・(②-ウ)に入る語句の組合せとして正しいものを、次の1～6から一つ選びなさい。 26

1 アー保安条例・イー集会条例・ウー新聞紙条例

2 アー保安条例・イー新聞紙条例・ウー集会条例

3 アー新聞紙条例・イー集会条例・ウー保安条例

4 アー新聞紙条例・イー保安条例・ウー集会条例

5 アー集会条例・イー保安条例・ウー新聞紙条例

6 アー集会条例・イー新聞紙条例・ウー保安条例

問3 下線部③を中心に1881年に結成された政党を、次の1～4から一つ選びなさい。

27

- 1 立憲改進黨 2 自由党 3 進歩党 4 立憲帝政党

問4 下線部④に関連して、国会の開設や開催に関して述べた文として誤っているものを、次の1～4から一つ選びなさい。

28

- 1 政府は明治十四年の政変に際して国会開設の勅諭を出した。
2 国会開催の前、黒田清隆首相は超然主義の立場を明らかにした。
3 1890年、最初の衆議院議員総選挙の実施後、第1回帝国議会在開催された。
4 第1回帝国議会の開催年に、政府は太政官制を廃止して内閣制度を創設した。

問5 下線部⑤に関連して、政府の条約改正交渉に係る出来事について述べた次の文Ⅰ～Ⅲについて、古いものから年代順に正しく配列したものを、下の1～6から一つ選びなさい。

29

- Ⅰ 政府はアメリカとの交渉にほぼ成功したが、イギリス・ドイツなどの反対で無効となった。
Ⅱ 交渉を有利にするために極端な欧化政策がとられた。
Ⅲ 政府の交渉中に、来日中のロシア皇太子が負傷する事件が発生し、ときの外相が引責辞任した。

- 1 Ⅰ－Ⅱ－Ⅲ 2 Ⅰ－Ⅲ－Ⅱ 3 Ⅱ－Ⅰ－Ⅲ
4 Ⅱ－Ⅲ－Ⅰ 5 Ⅲ－Ⅰ－Ⅱ 6 Ⅲ－Ⅱ－Ⅰ

B 日清戦争前後の産業革命期に入ると、工場労働者らによるストライキなど労働運動が高まった。1897年^⑥には労働組合期成会が結成されて労働運動を指導した。このような労働運動の高揚を背景に、第2次山県有朋内閣^⑧は、1900年に治安警察法を制定して労働運動を取り締まった。その後、治安警察法^⑨は（^⑩）の要求を受けて、1922年に一部が改正された。

問6 下線部⑥に関連して、日清戦争前後における産業革命の動向に関して述べた文として正しいものを、次の1～4から一つ選びなさい。

30

- 1 貨幣法が制定され、日本は銀本位制の国となった。
2 紡績業の発展を背景に、綿糸の輸出量が輸入量を上まわった。
3 鉄道国有法が公布され、民営鉄道会社を買収されて国有化された。
4 大規模な水力発電事業が展開され、工業原動力が電化へ転換された。

問7 下線部⑦に関連して、産業革命期のストライキや労働争議に関して述べた次の文X・Yと、それに該当する語句a～dとの組合せとして正しいものを、下の1～4から一つ選びなさい。 31

X 山梨県の実業家が経営する工場で女工らがストライキを起こし、これが日本最初のストライキといわれている。

Y 栃木県にある銅山の坑夫による待遇改善要求から暴動化し、政府は軍隊を出動させて暴動を鎮圧した。

a 雨宮製糸工場 b 富岡製糸工場 c 別子銅山 d 足尾銅山

- | | |
|--------------------|--------------------|
| 1 X - a Y - c | 2 X - a Y - d |
| 3 X - b Y - c | 4 X - b Y - d |

問8 下線部⑧を結成した人物を、次の1～4から一人選びなさい。 32

- 1 横山源之助 2 堺利彦 3 鈴木文治 4 高野房太郎

問9 下線部⑨の時代の動向として誤っているものを、次の1～4から一つ選びなさい。 33

- | | |
|---------------|-----------------|
| 1 日英通商航海条約の締結 | 2 地価の3.3%への地租増徴 |
| 3 文官任用令の改正 | 4 軍部大臣現役武官制の制定 |

問10 空欄（ ⑩ ）に入る語句を、次の1～4から一つ選びなさい。 34

- 1 新婦人協会 2 赤瀾会 3 黎明会 4 青鞥社

C 第二次護憲運動の結果、（ ⑪ ）の護憲三派が総選挙に勝利し、第1次加藤高明内閣が誕生した。同内閣は公約通り普通選挙法を成立させたが、この普選法と抱き合わせで治安維持法を制定した。その後、1928年に行われた第1回の普通選挙で無産政党が進出し、日本共産党が公然と活動を開始すると、田中義一内閣は治安維持法を改正するとともに、共産党員の大規模な検挙を行った。その後、1941年に治安維持法に予防拘禁制が新たに導入され、弾圧の対象も拡大されていった。

問11 空欄（ ⑫ ）に入る政党として誤っているものを、次の1～4から一つ選びなさい。 35

- 1 憲政会 2 革新倶楽部 3 立憲政友会 4 立憲民政党

問12 下線部⑬に関連して、普通選挙法成立と同じ年の出来事を、次の1～4から一つ選びなさい。 36

- 1 血盟団事件 2 関東大震災 3 五・四運動 4 日ソ国交樹立

問13 下線部⑬に関連して、次の史料は第1次加藤内閣のもとで制定された治安維持法の一部である。この史料中の空欄 ・ に入る語句の組合せとして正しいものを、下の1～4から一つ選ばない。

37

史料

第一条 国体ヲ変革シ又ハ ヲ否認スルコトヲ目的トシテ結社ヲ組織シ又ハ情ヲ知りテ之ニ加入シタル者ハ十年以下ノ懲役又ハ ニ処ス…

(官報)

- | | |
|-----------------|-----------------|
| 1 アー階級制度・イー禁錮 | 2 アー階級制度・イー死刑 |
| 3 アー私有財産制度・イー禁錮 | 4 アー私有財産制度・イー死刑 |

問14 下線部⑭に関連して、田中内閣やその時代の動向に関して述べた文として誤っているものを、次の1～4から一つ選ばない。

38

- 1 立憲政友会の総裁田中義一が首相であった。
- 2 蔵相に高橋是清を、外相に松岡洋右を起用した。
- 3 パリで戦争放棄を約した不戦条約が調印された。
- 4 北伐を阻止するために山東出兵が行われた。

問15 下線部⑮に関連して、このときの内閣の首相を、次の1～4から一人選ばない。

39

- | | | | |
|--------|---------|--------|--------|
| 1 近衛文麿 | 2 平沼騏一郎 | 3 林銑十郎 | 4 東条英機 |
|--------|---------|--------|--------|

D 戦後、非軍事化・民主化の占領政策を背景に、戦前に制定された治安警察法や治安維持法は廃止される一方、日本国憲法^⑯が公布・施行されて言論・集会の自由が約された。その後、第3次吉田茂内閣のもとで1952年^⑰にサンフランシスコ平和条約が発効して主権が回復した。同内閣は労働運動や社会運動を抑えるために法整備を進め、(⑱)を契機に破壊活動防止法を成立させ、その監視機関として公安調査庁を設置した。

問16 下線部⑬に関して述べた次の文X・Yについて、その正誤の組合せとして正しいものを、下の1～4から一つ選びなさい。

40

X 松本烝治を委員長とする憲法問題調査委員会は、国民主権を規定した憲法改正草案を起草し、GHQ がその草案を採用した。

Y 日本国憲法は手続き上、大日本帝国憲法を改正する形式をとり、改正案は衆議院と参議院で修正可決された。

1 X－正 Y－正

2 X－正 Y－誤

3 X－誤 Y－正

4 X－誤 Y－誤

問17 下線部⑭に関連して、1952年の出来事として誤っているものを、次の1～4から一つ選びなさい。

41

1 日米行政協定の調印

2 小笠原諸島の日本返還

3 保安隊の新設

4 日本のIMF加盟

問18 空欄（ ⑮ ）に入る語句を、次の1～4から一つ選びなさい。

42

1 三井三池炭鉱争議

2 血のメーデー事件

3 安保闘争

4 二・一ゼネスト計画

世界史 B

解答番号 1 ~ 40

I イタリア史について述べた次の文章を読み、下の問いに答えなさい。

前1000年頃から、インド=ヨーロッパ語系の古代イタリア人がイタリア半島を南下した。前9世紀頃からは、① がイタリア半島中北部に定住し、前8世紀には、ギリシア人がイタリア半島南部からシチリア島にかけて植民市の建設を開始した。

ローマは、古代イタリア人の一派のラテン人によって、前8世紀頃にティベル川のほとりに建設された。前6世紀末、ローマは ① の王を追放して共和政となった。前3～前2世紀には、③ フェニキア人が北アフリカに建設した植民市カルタゴとの間で、100年余りにわたってポエニ戦争が戦われた。

ポエニ戦争に勝利したローマは、やがて④ ヘレニズム王朝を征服し、地中海を内海とした。その頃から⑤ 元首政（プリンキパトゥス）と呼ばれる帝政が始まり、その最初の200年ほどは「ローマの平和（パクス=ローマーナ）」と呼ばれるローマの最盛期となった。

ローマ帝国は4世紀末に東西に分裂し、イタリア半島は西ローマ帝国の領域となった。しかし5世紀後半、西ローマ帝国は ⑥ によって滅ぼされた。

イタリア半島では、5世紀末に東ゴート王国が建国されたが、6世紀に東ローマ（ビザンツ）帝国の⑦ ユスティニアヌス大帝に滅ぼされた。しかしユスティニアヌス大帝が死去すると、北イタリアに ⑧ が建国された。⑧ は、8世紀後半にカロリング朝のカルル大帝（シャルルマーニュ）に滅ぼされるまで続いた。

中世から近代にかけてのイタリアは、北部と南部を分断する形で中部にローマ教皇領があり、南部に⑨ ノルマン人の建てた両シチリア王国があった。一方、北部では⑩ 多くの都市国家が分立していた。

イタリア半島では、19世紀前半にカルボナリや青年イタリアがイタリア統一をめざす運動を展開した。それらの運動が挫折した後、19世紀後半に⑪ サルデーニャ王国が領土を拡大して、ヴィットーリオ=エマヌエーレ2世を国王とするイタリア王国が建国され、やがてイタリアの統一が実現した。しかし、第一次世界大戦が終わるまでは ⑫ ・南チロルなどが「未回収のイタリア」として領域外に残った。

第一次世界大戦では、⑬ イタリアは英仏側に参戦して戦勝国となった。それにもかかわらず、戦後は国民の不満が多く、また、地主・工場主・軍部などと労働者や農民などとの社会対立が激化した。こうしたことが背景となって、⑭ を契機としてムッソリーニ政権が成立し、さらにファシスト党の一党独裁が始まった。

第二次世界大戦後の⑮ 冷戦では、イタリアは北大西洋条約機構（NATO）の原加盟国となるなど、アメリカ合衆国を中心とする西側陣営に属した。一方でイタリアは、ヨーロッパ統合の端緒となるヨーロッパ石

炭鉄鋼共同体（ECSC）」に参加し、現在はヨーロッパ連合（EU）の一員となっている。

問1 文章中の空欄 ① に該当する民族名を、次の1～4から一つ選びなさい。

1

- 1 アヴァール人 2 アッカド人 3 エトルリア人 4 ソグド人

問2 下線部②の時期にローマが制定したホルテンシウス法の内容として正しいものを、次の1～4から一つ選びなさい。

2

- 1 2名のコンスル（執政官）のうち1名を平民から選ぶ。
 2 コンスルや元老院の決定に拒否権を行使できる護民官を設置する。
 3 平民会の決議を元老院の承認なしに国法とする。
 4 大土地所有者の土地を没収して無産市民に与える。

問3 下線部③について述べた次の文aとbの正誤の組合せとして正しいものを、下の1～4から一つ選びなさい。

3

- a シドンやティルスを拠点として、地中海での海上貿易で活躍した。
 b 彼らの創製した楔形文字が、オリエントで広く用いられた。

- 1 a－正 b－正 2 a－正 b－誤
 3 a－誤 b－正 4 a－誤 b－誤

問4 下線部④について述べた文として正しいものを、次の1～4から一つ選びなさい。

4

- 1 アンティゴノス朝は、ムセイオンと呼ばれる王立研究所を建設した。
 2 セレウコス朝は、バクトリアやパルティアを滅ぼし、領域を拡大した。
 3 ササン朝は、エフタルと結び、中央アジアの突厥を挟撃して滅ぼした。
 4 プトレマイオス朝は、アクティウムの海戦でローマに敗れて滅亡した。

問5 下線部⑤の時期の出来事について述べた文として正しいものを、次の1～4から一つ選びなさい。

5

- 1 ミラノ勅令が出され、ローマ帝国でキリスト教が公認された。
 2 五賢帝時代に、ローマ市民権が帝国の全自由人に拡大した。
 3 トラヤヌス帝の時、ローマ帝国の領土が最大になった。
 4 グレゴリウス暦のもとになったユリウス暦が作られた。

問6 文章中の空欄 ⑥ に該当する人名を、次の1～4から一つ選びなさい。

6

- 1 アッティラ 2 オドアケル 3 クローヴィス 4 プルタルコス

問7 下線部⑦と家臣たちを描いたモザイク画がある聖堂の名を、次の1～4から一つ選びなさい。

7

- 1 サン=ヴィターレ聖堂 2 サン=ピエトロ大聖堂
3 ノートルダム大聖堂 4 ハギア=ソフィア聖堂

問8 文章中の空欄 ⑧ に該当する国名を、次の1～4から一つ選びなさい。

8

- 1 ヴァンダル王国 2 西ゴート王国 3 ブルグンド王国 4 ランゴバルド王国

問9 下線部⑨に関連して、ノルマン人の王クヌート（カヌート）が征服した地域の位置として正しいものを、次の地図中の1～4から一つ選びなさい。

9



問10 下線部⑩に関連して述べた次の文 a と b の正誤の組合せとして正しいものを、下の 1 ～ 4 から一つ選びなさい。

10

- a ジェノヴァは、地中海貿易で香辛料などアジアの物産を輸入した。
b フィレンツェでは、メディチ家がルネサンスに重要な役割をはたした。

- | | | | | | |
|---|-------|-------|---|-------|-------|
| 1 | a - 正 | b - 正 | 2 | a - 正 | b - 誤 |
| 3 | a - 誤 | b - 正 | 4 | a - 誤 | b - 誤 |

問11 下線部⑪について述べた文として正しいものを、次の 1 ～ 4 から一つ選びなさい。

11

- 1 サルデーニャ王国は、ドイツと密約を結び、オーストリアと開戦した。
- 2 サルデーニャ王国は、フランスの二月革命に乗じて教皇領を併合した。
- 3 マツツイーニは、義勇軍を率いてシチリア島と南イタリアを征服した。
- 4 イタリア王国は、ヴェネツィアをオーストリアから奪って併合した。

問12 文章中の空欄 ⑫ に該当する地名を、次の 1 ～ 4 から一つ選びなさい。

12

- | | | | | | | | |
|---|-------|---|-------|---|--------|---|---------|
| 1 | サヴォイア | 2 | トリエステ | 3 | 中部イタリア | 4 | ロンバルディア |
|---|-------|---|-------|---|--------|---|---------|

問13 下線部⑬について述べた文として正しいものを、次の 1 ～ 4 から一つ選びなさい。

13

- 1 イギリスとフランスは、ロシアと三国同盟を結んでいた。
- 2 イタリアは、タンネンベルクの戦いでドイツが敗れたため参戦した。
- 3 イタリアは、ロンドン条約を結んで参戦した。
- 4 イタリアは、戦勝国としてアルバニアを獲得した。

問14 文章中の空欄 ⑭ に該当するものを、次の 1 ～ 4 から一つ選びなさい。

14

- | | | | |
|---|-----------|---|---------|
| 1 | エチオピア侵攻 | 2 | 世界恐慌の発生 |
| 3 | ラテラノ条約の締結 | 4 | 「ローマ進軍」 |

問15 下線部⑮に関連して、第二次世界大戦の終結から米ソ首脳によって冷戦の終結が宣言されるまでの時期の出来事について述べた次の文 a～c が、年代の古いものから順に正しく配列されているものを、下の 1～6 から一つ選びなさい。

15

- a ソ連によって西ベルリンへの交通が遮断された。
- b ハンガリーの民主化の動きに対し、ソ連が軍事介入した。
- c 「プラハの春」に対し、ワルシャワ条約機構軍が軍事介入した。

- | | | | | | |
|---|-----------|---|-----------|---|-----------|
| 1 | a → b → c | 2 | a → c → b | 3 | b → a → c |
| 4 | b → c → a | 5 | c → a → b | 6 | c → b → a |

Ⅱ 次のA・Bの問いに答えなさい。

A 次の表は、朝鮮半島の歴史に関連する出来事を年代順に配列したものである。この表を見て、下の問いに答えなさい。

- | | |
|---|--------------------|
| a | 高句麗が滅亡した。 |
| b | (イ) |
| c | 訓民正音（ハングル）が制定された。 |
| d | 急進改革派による甲申政変が失敗した。 |
| e | (ロ) |
| f | 朝鮮戦争が勃発した。 |

問1 表中の空欄 (イ)・(ロ) に該当する出来事を、次の1～4から一つずつ選びなさい。

(イ) — **16**、(ロ) — **17**

- 攘夷派の兵士による壬午軍乱が鎮圧された。
- 甲午農民戦争（東学の乱）が発生した。
- 渤海が朝鮮半島北部を支配下に置いた。
- 現在の平壤（ピョンヤン）付近に楽浪郡が置かれた。

問2 表中のaの高句麗について述べた文として正しいものを、次の1～4から一つ選びなさい。

18

- 朝鮮半島の西南部に建国した。
- 北魏が遠征に失敗して滅亡した。
- 広開土王碑が建てられた。
- 仏国寺に多宝塔が建てられた。

問3 表中のcの訓民正音（ハングル）を制定した王の名を、次の1～4から一つ選びなさい。

19

- | | | | |
|------|------|-------|-------|
| 1 高宗 | 2 世宗 | 3 李舜臣 | 4 李成桂 |
|------|------|-------|-------|

問4 表中のfの朝鮮戦争について述べた文として正しいものを、次の1～4から一つ選びなさい。

20

- 大韓民国（韓国）が北緯38度線を越えて侵攻したことで、戦争が始まった。
- 戦争勃発時の朝鮮民主主義人民共和国（北朝鮮）の首相は、金日成（キムイルソン）であった。
- 国連の安全保障理事会では、国連軍の派遣にソ連が拒否権を行使した。
- 中華人民共和国（中国）は、戦争に干渉も介入も行わなかった。

B 次の表は、ベトナムの歴史に関連する出来事を年代順に配列したものである。この表を見て、下の問いに答えなさい。

- | | |
|---|---------------------------------|
| g | メコン川下流域に扶南が建国された。 |
| h | (ハ) |
| i | 阮福暎が阮朝を建てた。 |
| j | カンボジアと合わせてインドシナ連邦が組織された。 |
| k | (ニ) |
| l | ベトナム民主共和国(北ベトナム)への爆撃(北爆)が開始された。 |

問5 表中の空欄(ハ)・(ニ)に該当する出来事を、次の1～4から一つずつ選びなさい。

(ハ) — **21**、(ニ) — **22**

- 1 パリで和平協定が結ばれた。
- 2 ドンズー(東遊)運動が展開された。
- 3 漢字を利用してチュノムが作られた。
- 4 中国南部からベトナム北部にかけて支配した南越国が滅亡した。

問6 表中のgの扶南の港の名を、次の1～4から一つ選びなさい。

23

- 1 オケオ
- 2 バタヴィア
- 3 パレンバン
- 4 マラッカ

問7 表中のiの阮福暎について述べた文として正しいものを、次の1～4から一つ選びなさい。

24

- 1 黒旗軍を率いて建国した。
- 2 宣教師ピニョーの援助をうけて建国した。
- 3 清によって大越(ダイベト)国王とされた。
- 4 フランスとフエ(ユエ)条約を結んだ。

問8 表中のlについて、北爆を開始したアメリカ合衆国大統領の名を、次の1～4から一つ選びなさい。

25

- 1 ジョンソン
- 2 トルーマン
- 3 ニクソン
- 4 レーガン

Ⅲ ヨーロッパと中国の交流や関係について述べた次の文章A～Cを読み、各問いに答えなさい。

A 歴史上、文字などを書きつける素材としては、粘土板・パピルス・羊皮紙・木の葉・木簡・竹簡・^①布・石・金属など、さまざまなものが利用されてきたが、現在は紙が一般的である。紙は中国で発明され、木簡・竹簡にとって代わった。紙の実用化は、後漢の^②が西域で活躍した時期の少し後に、画期的な改良がなされたことで進んだ。歴代の中国王朝は紙の製法を秘匿^{ひとく}したが、^③成立の翌年のタラス河畔の戦いで、捕虜になった唐の兵士を通じてイスラーム世界に伝わり、さらに13世紀頃に、イベリア半島やシチリア島から西ヨーロッパに伝えられた。西ヨーロッパでは、15世紀の^④による活版印刷術の改良以降、紙が普及して羊皮紙にとって代わり、^⑤16世紀の宗教改革の進展に重要な役割をはたした。

問1 下線部①について述べた次の文aとbの正誤の組合せとして正しいものを、下の1～4から一つ選びなさい。 26

- a エジプトの「死者の書」には、粘土板が用いられた。
b シャンポリオンは、パピルス文書を手がかりにして神聖文字（ヒエログリフ）を解読した。

- | | | | |
|-------|-----|-------|-----|
| 1 a－正 | b－正 | 2 a－正 | b－誤 |
| 3 a－誤 | b－正 | 4 a－誤 | b－誤 |

問2 文章中の空欄^②に該当する人名を、次の1～4から一つ選びなさい。 27

- 1 張騫 2 張儀 3 班固 4 班超

問3 文章中の空欄^③に該当する王朝名を、次の1～4から一つ選びなさい。 28

- 1 アッバース朝 2 ガズナ朝 3 後ウマイヤ朝 4 ムワッヒド朝

問4 文章中の空欄^④に該当する人名を、次の1～4から一つ選びなさい。 29

- 1 ガリレイ 2 ケプラー 3 グーテンベルク 4 ライプニッツ

問5 下線部⑤について述べた文として正しいものを、次の1～4から一つ選びなさい。 30

- 1 ルターは、贖宥状の販売を提唱した。
2 ミュンツァーは、チューリヒで改革を行った。
3 カルヴァンは、予定説を唱えた。
4 イギリス国教会は、ステュアート朝で成立した。

B 磁力をもつ金属の針、すなわち磁針が南北を示すことは、中国で古くから知られていた。こうした方位磁針が羅針盤として実用化されたのは、11世紀頃であった。^⑥それは、魚の形をした木片に磁針をはめこみ、魚の口の部分が南を向くようにしたものであり、「指南魚」と呼ばれ、船に装備された。15世紀前半に明の ⑦ が命じて始まった鄭和の南海遠征でも、こうした羅針盤は用いられた。羅針盤は、12世紀頃にイスラーム世界に伝わり、13世紀頃にはヨーロッパにも伝わった。大航海時代には、部^⑧下が世界周航を達成した ⑨ も羅針盤を用い、フィリピンのマニラとメキシコのアカプルコを結んだ ⑩ でも、羅針盤が用いられた。

問6 下線部⑥の時期の東アジアについて述べた文として正しいものを、次の1～4から一つ選びなさい。

31

- 1 王安石が均輸法や保甲法を実施した。
- 2 北宋と金が澶淵の盟を結んだ。
- 3 南宋の皇帝が、オイラトの捕虜になった。
- 4 陽明学を批判する朱子学が成立した。

問7 文章中の空欄 ⑦ に該当する皇帝名を、次の1～4から一つ選びなさい。

32

- | | | | |
|-------|-------|-------|-------|
| 1 洪武帝 | 2 宣統帝 | 3 永楽帝 | 4 万暦帝 |
|-------|-------|-------|-------|

問8 下線部⑧に関連して、12世紀に成立したイスラーム王朝と、その創始者との組合せとして正しいものを、次の1～4から一つ選びなさい。

33

- 1 アイユーブ朝 — サラーフ=アッディーン（サラディン）
- 2 ウマイヤ朝 — ムアーウィヤ
- 3 奴隸王朝 — アウラングゼーブ
- 4 ファーティマ朝 — ニザーム=アルムルク

問9 文章中の空欄 ⑨ に該当する人名を、次の1～4から一つ選びなさい。

34

- | | |
|---------------|-----------------|
| 1 アメリゴ=ヴェスプッチ | 2 ヴァスコ=ダ=ガマ |
| 3 バルトロメウ=ディアス | 4 マゼラン（マガリャンイス） |

問10 文章中の空欄 ⑩ に該当する船の名を、次の1～4から一つ選びなさい。

35

- | | | | |
|---------|--------|---------|-------|
| 1 ガレオン船 | 2 三段櫓船 | 3 ジャンク船 | 4 ダウ船 |
|---------|--------|---------|-------|

C 火薬は、中国で宋代に実用化され、13世紀には、火薬を用いた武器を大モンゴル国（モンゴル帝国）^⑪や元（大元）が攻撃に使用した。火薬や、火薬を用いた武器は、イスラーム世界を経由して、あるいは大モンゴル国から直接、ヨーロッパに伝わった。ヨーロッパでは、14世紀に起こった ⑫ の頃から火砲が製造・使用されるようになり、やがて銃口から火薬と弾丸を入れるタイプの、いわゆる火縄銃^⑬が発明された。火縄銃は、倭寇の頭目の一人であった ⑭ の所有とされる船で、ポルトガル人によって日本の種子島へ伝えられた。このヨーロッパ式の火縄銃は、16世紀末の ⑮ で使用され、中国や朝鮮で従来のアジア式火器に代わって普及していく契機となったとされる。

問11 下線部⑪について述べた文として正しいものを、次の1～4から一つ選びなさい。

36

- 1 バトゥは、イル=ハン国を建てた。
- 2 フレグ（フラグ）は、ホラズム=シャー朝を滅ぼした。
- 3 元では、衛所制が整備された。
- 4 元では、紙幣の交鈔が発行された。

問12 文章中の空欄 ⑫ に該当する出来事を、次の1～4から一つ選びなさい。

37

- 1 イタリア戦争 2 三十年戦争 3 バラ戦争 4 百年戦争

問13 下線部⑬のタイプの銃は、19世紀にも実戦に使われた。こうした銃の弾薬包の問題がきっかけとなった事件名を、次の1～4から一つ選びなさい。

38

- 1 義和団戦争 2 シパーヒーの反乱（インド大反乱）
- 3 太平天国の乱 4 マフディー運動

問14 文章中の空欄 ⑭ に該当する人名を、次の1～4から一つ選びなさい。

39

- 1 王羲之 2 王建 3 汪兆銘 4 王直

問15 文章中の空欄 ⑮ に該当する出来事を、次の1～4から一つ選びなさい。

40

- 1 三藩の乱 2 壬辰・丁酉倭乱 3 台湾征服 4 白蓮教徒の乱

政治・経済

解答番号 1 ～ 39

I 次の文章を読み、下の問いに答えなさい。

近年の日本では、政治的無関心や無党派層の増加が問題になっている。民主政治が、市民の政治参加によって成り立つとすれば、どちらも気になる動向であろう。しかし、政治参加は選挙を通じて行われるだけではない。市民運動やボランティア活動、SNSのようなインターネットを通じた情報発信など、現代社会では多様な形の政治参加が可能である。これらを含めた現代社会にふさわしい政治参加のあり方を、さらに考えていくべきだろう。

また制度的には、私たちにとって最も身近な政治参加の機会と言える地方自治への参加も重要である。日本国憲法に規定された地方自治の本旨には、住民自治と団体自治の二つがある。このうち住民自治には、首長や地方議会議員の公選制のほか、直接請求や住民投票など、さまざまな住民参加の制度が含まれている。また、住民が自発的にまちづくりや村おこしを進めたり、公助に加えて共助や自助に取り組んだりして、多くの成果を上げている。こうした市民の主体的な行動も、より充実した民主政治の実現にとって重要であろう。

問1 下線部①に関連する記述として、適切でないものを次の1～4から一つ選びなさい。

1

- 1 無党派層増加の背景には、政治への失望感や無力感による現代的な政治的無関心があげられる。
- 2 無党派層は選挙に関心を示さないため、投票行動が選挙結果に大きな影響を与えることはない。
- 3 農業団体と保守政党、労働組合と革新政党といった利益集団と政党の固定された関係が弱まったことが、無党派層増加の一因と考えられる。
- 4 インターネット社会では、自分の共感できる意見を持つ発信者の情報に依存する傾向が生まれ、影響力のある発信者に追随して無党派層がいつせいに政治行動を起こすという現象もみられる。

問2 下線部②に関連して、日本における行政や司法への市民参加についての記述として、**適切でないもの**を次の1～4から一つ選びなさい。 2

- 1 行政機関が政令や省令などを制定する際に、事前に広く意見を求めるパブリックコメントの制度が、行政手続法に定められている。
- 2 重大な刑事事件の第一審で、有権者の中から選ばれた裁判員が裁判官とともに、有罪・無罪の判断と有罪の場合の量刑を決める制度がある。
- 3 検察審査会では、検察官が不起訴とした事件について不服が申し立てられた場合、有権者の中から選ばれた審査員が不起訴処分の可否を審査する。
- 4 国の機関として国会が任命し、市民からの苦情を受けて行政機関の活動を調査し報告する行政監察官（オンブズマン）が置かれている。

問3 下線部③に関連する次の記述ア～ウのうち、正しいものをすべて選び、その組合せとして、最も適切なものを下の1～7から一つ選びなさい。 3

- ア 一般に小選挙区制は他の選挙制度に比べて、議席に結び付かない死票が出やすいと言われている。
- イ 日本の参議院議員通常選挙では、選挙区選挙と非拘束名簿式比例代表制が併用されている。
- ウ アメリカの下院議員選挙は大選挙区制がとられているため、二大政党制に結び付きやすい。

- | | | | |
|-------|-------|---------|-------|
| 1 ア | 2 イ | 3 ウ | 4 ア・イ |
| 5 ア・ウ | 6 イ・ウ | 7 ア・イ・ウ | |

問4 下線部④に関連して、次の文章の空欄 ・ に入る記述の組合せとして、最も適切なものを下の1～4から一つ選びなさい。

4

日本では、ボランティアに関する法的定義や、活動の法的根拠が十分に整備されているとは言えない。現状では、ボランティア団体が一定の要件を満たせば、特定非営利活動促進法に基づいて 。また、災害対策基本法では、国や地方自治体が という趣旨が定められている。

に入る記述

ア 法人格が認められ、寄付金に対する税制上の優遇措置が受けられる

イ 任意団体として、政治活動や宗教活動など幅広い活動が認められる

に入る記述

ウ ボランティアの自主性を尊重しつつ、連携に努めなければならない

エ 行政機関から独立した活動であるボランティアに、経費などを支給してはならない

1 ア ウ
3 イ ウ

2 ア エ
4 イ エ

問5 下線部⑤に関連して、インターネットの現状についての記述として、最も適切なものを次の1～4から一つ選びなさい。

5

- 1 インターネット上の情報は、多くの人が検証できるため信頼性が高いものばかりで、虚偽を含む問題のある情報が拡散する恐れはない。
- 2 インターネットやマスメディアによって得られた情報に対して批判的な視点を持ちながら、それを活用するための能力であるデジタル・デバイドを高めなければならない。
- 3 インターネットで発信される情報は匿名性が高いため、他人の人権を侵害するような過激な表現があらわれたりすることが少なくない。
- 4 マスメディアによる情報操作や世論誘導が問題になることがあるが、インターネットでは技術的にこのような問題が起こる可能性はない。

問6 下線部⑥に関連して、地方自治体が入り込んでいる近年の政策についての記述として、最も適切なものを次の1～4から一つ選びなさい。

6

- 1 公立図書館などに指定管理者制度が入り込められ、これまで自治体職員が担当していた施設の管理を、指定された民間企業などに委託する事例が見られる。
- 2 人口の減少に応じて、公共施設や生活関連インフラを都市の中心部に集中することをやめ、郊外に分散して小規模化するコンパクトシティという取組みが広がっている。
- 3 複数の地方自治体が参加する広域連合を廃止し、それぞれの自治体が独自に公共サービスを提供することによって、財政コストの削減を図っている。
- 4 住民税を、現在居住する地方自治体に納税するのではなく、出生地の自治体に全額納めるというふるさと納税制度があるが、何も見返りがないため普及していない。

問7 下線部⑦に関連する記述として、最も適切なものを次の1～4から一つ選びなさい。

7

- 1 国民主権・基本的人権の尊重・議会制民主主義が、日本国憲法の三大原理とされる。
- 2 日本国憲法は、一般の法律と同様の手続きで改正できる軟性憲法である。
- 3 天皇や公務員には、日本国憲法を尊重し擁護する義務がある。
- 4 日本国憲法には、それ以前の各国憲法になかった環境権とプライバシー権が明文化されている。

問8 下線部⑧に関連して、現在の国と地方自治体の関係についての記述として、適切なでないものを次の1～4から一つ選びなさい。

8

- 1 地方自治体の業務は、固有の自治事務と、国から委託された法定受託事務の二つに分類することができる。
- 2 「三位一体の改革」では、地方財政の自立をめざし、地方税の国税への転換、国庫支出金の増額、地方債の廃止という政策が実施された。
- 3 外国人住民の増加に対応して、地方公務員の国籍条項を廃止したり、外国人も有権者とする住民投票を実施したりする自治体があらわれてきた。
- 4 地方自治体の中には、地域づくりの理念や自治体運営の基本ルールなどを定めた自治基本条例を定め、地方分権のあらわれとしての自治立法を推進している事例が見られる。

問9 下線部⑨に関連して、地方自治体の首長と議会の関係についての記述として、最も適切なものを次の1～4から一つ選びなさい。

9

- 1 首長と議員を、それぞれ住民が直接選挙で選ぶ制度を、一元代表制と呼ぶ。
- 2 首長は、議会による条例の制定・改廃や予算の議決に対して、拒否権を行使して再議を求めることができる。
- 3 議会は首長に対する不信任決議権を持つが、首長は議会に対する解散権を持たない。
- 4 議会は、首長に関する疑惑などを調査するために、いわゆる百条委員会を設置できるが、偽証に対する罰則などの強制力はない。

問10 下線部⑩に関連して、次の文章の空欄 A ～ E に入る語句の組合せとして、最も適切なものを下の1～9から一つ選びなさい。

10

地方自治法によれば、条例の制定・改廃請求は、有権者の A の署名をもって B に提出する。議会の解散請求は、有権者の C の署名を原則とするが、人口 D 以上の自治体については要件を緩和しており、いずれも E に提出する。

A ・ C に入る語句

ア 50分の1以上 イ 6分の1以上 ウ 3分の1以上

B ・ E に入る語句

エ 首長 オ 議会 カ 選挙管理委員会

D に入る語句

キ 20万人 ク 40万人

1	A	ア	B	エ	C	ウ	D	ク	E	カ
2	A	ア	B	オ	C	ウ	D	キ	E	オ
3	A	ア	B	カ	C	ウ	D	ク	E	エ
4	A	イ	B	エ	C	イ	D	キ	E	カ
5	A	イ	B	オ	C	イ	D	ク	E	オ
6	A	イ	B	カ	C	イ	D	キ	E	エ
7	A	ウ	B	エ	C	ア	D	ク	E	カ
8	A	ウ	B	オ	C	ア	D	キ	E	オ
9	A	ウ	B	カ	C	ア	D	ク	E	エ

問11 下線部⑪に関連して、住民投票には、憲法に基づくものと、条例に基づくものがある。憲法に基づいて実施された住民投票で同意が求められた案件として、最も適切なものを次の1～4から一つ選びなさい。

11

- 1 大阪市を四つの区に再編する「大阪都」構想
- 2 埼玉県北本市の新駅建設計画
- 3 沖縄県辺野古沖への米軍基地移設
- 4 広島平和記念都市建設法の制定

問12 下線部⑫に関連して、まちづくりや村おこしの手法を民間主導と行政主導に分類したとき、民間主導に当てはまる記述を次のア～エから二つ選び、その組合せとして、最も適切なものを下の1～6から一つ選びなさい。

12

- ア 大規模小売店舗立地法に基づいて、交通・騒音・廃棄物など生活環境の側面から、大型スーパーなどの出店に際して都道府県などが地域社会との調整を図る。
- イ 果樹農家が果実の摘み取り体験、企業が農業学習のできる体験型宿泊施設、農業協同組合が農産物直売所をそれぞれ運営するなど、グリーン・ツーリズムの振興をめざす。
- ウ 空き店舗が目立つ商店街で、商店会が仲介・管理して、新しい業態で起業を希望する者に空き店舗を低い賃料、賃貸料で貸し出し、商店街の賑わいを取り戻す。
- エ 美しい景観を求めるインバウンド（訪日旅行）需要に対応するために、自治体が海外資本のリゾート業者を誘致する一方で、景観を破壊する乱開発を認可しない。

- 1 ア・イ 2 ア・ウ 3 ア・エ 4 イ・ウ 5 イ・エ 6 ウ・エ

問13 下線部⑬に関連して、次の自然災害対策ア～ウを、公助・共助・自助に分類したとき、その組合せとして、最も適切なものを下の1～6から一つ選びなさい。

13

- ア 自宅に日ごろから食料や飲料水を備蓄し、災害による供給の途絶に備える。
- イ 災害時の給水車の派遣や、ヘリコプターによる食料空輸・病人搬送などを計画する。
- ウ 地元スーパーが自治会と提携し、災害備蓄用を兼ねた移動販売車を日常的に巡回させる。

- | | | | | | | | |
|---|------|------|------|---|------|------|------|
| 1 | アー公助 | イー共助 | ウー自助 | 2 | アー公助 | イー自助 | ウー共助 |
| 3 | アー共助 | イー公助 | ウー自助 | 4 | アー共助 | イー自助 | ウー公助 |
| 5 | アー自助 | イー公助 | ウー共助 | 6 | アー自助 | イー共助 | ウー公助 |

Ⅱ 次の文章を読み、下の問いに答えなさい。

長期のデフレからの脱却を模索して苦しんでいた日本経済にも、ようやく明るさが見えてきた。2022年ごろから始まった円安の進行などの不安材料は残るものの、2022年から23年にかけて株価や賃金は上昇傾向にあり、今後は安定した成長軌道に乗ることが期待される。

日本経済の現状が好転した局面で、次に取り組まなければならないのが、長期的な課題の解決である。とくに、少子高齢化への対策は一刻の猶予も許さない。このところ、少子化対策は次々と打ち出されているが、より差し迫った問題である高齢化への対応がやや遅れているように見える。高齢者を対象とする医療・介護や年金などの社会保障制度は、さらに拡充すべきという議論があるにもかかわらず、財政的にはすでに逼迫した状態で、今後は抑制を迫られる可能性もある。したがって国民も、自らの老後に向けた資産形成などの課題に取り組んでいかなければならない。これに関連して、人口減少による労働力不足に対応して、高齢者を労働力として活用するという課題も避けて通ることができない。

このように、課題は山積しているものの、解決不可能ではない。今後も、日本経済のさらなる安定成長によって、状況を改善できる余地は十分に残されていると言えるだろう。

問 1 下線部①に関連して、近年の日本経済の動きについての記述として、最も適切なものを次の 1～4 から一つ選びなさい。

14

- 1 貿易収支は大幅な黒字が続き、さらにデジタル関連の著作権使用料などが輸出超過でサービス収支も黒字となり、この二つが主な原因となって経常収支は黒字が続いている。
- 2 自動車・機械・化学などの分野は国際競争力を保っているが、かつて世界市場で大きなシェア（市場占有率）を持っていた半導体や液晶パネルのシェアは、ほぼ一貫して低下してきた。
- 3 日本銀行の黒田総裁は、デフレからの脱却を目指して、政策金利の誘導や預金準備率操作などの伝統的金融政策を拡大したが、任期中にデフレ脱却は宣言されなかった。
- 4 EC（電子商取引）の普及が見られず、実際の店舗で商品を販売するデパートや総合スーパーの出店が増加している。

問2 下線部②に関連する記述として、**適切でないもの**を次の1～4から一つ選びなさい。

15

- 1 日本の景気回復とともに、国内金利が急上昇して欧米の金利より高くなったことが、円安の要因だと考えられている。
- 2 円安などによって輸入原材料や燃料の円建て価格が上昇し、このことが国内物価を上昇させた大きな原因だと言われている。
- 3 円安に対して政府・日本銀行が市場介入を実施したと言われているが、円高の方向に誘導する場合には円買い・ドル売りの介入が適切である。
- 4 円安の結果、輸出している企業にとっては、円建て収益の増加が業績にプラスとなるが、海外の原材料や部品に頼る企業にとっては、業績にマイナスとなる。

問3 下線部③に関連する記述として、最も適切なものを次の1～4から一つ選びなさい。

16

- 1 すべての株式会社の株式が証券取引所に上場されているので、投資家がこれを売買することが可能である。
- 2 株価の形成には基本的に市場原理がはたらき、ある会社の株式に対する投資家の需要が増加すれば、株価は上昇する。
- 3 1929年にアメリカで始まった世界恐慌では株価の急上昇が見られ、逆に1987年ごろから始まった日本のバブル経済の期間中には株価の下落が続いた。
- 4 高収益が期待できる新商品の発売など、株価の上昇につながる情報を発表前に会社内部の者が知って、値上がり前にその株式を買うというインサイダー取引が法的に行われている。

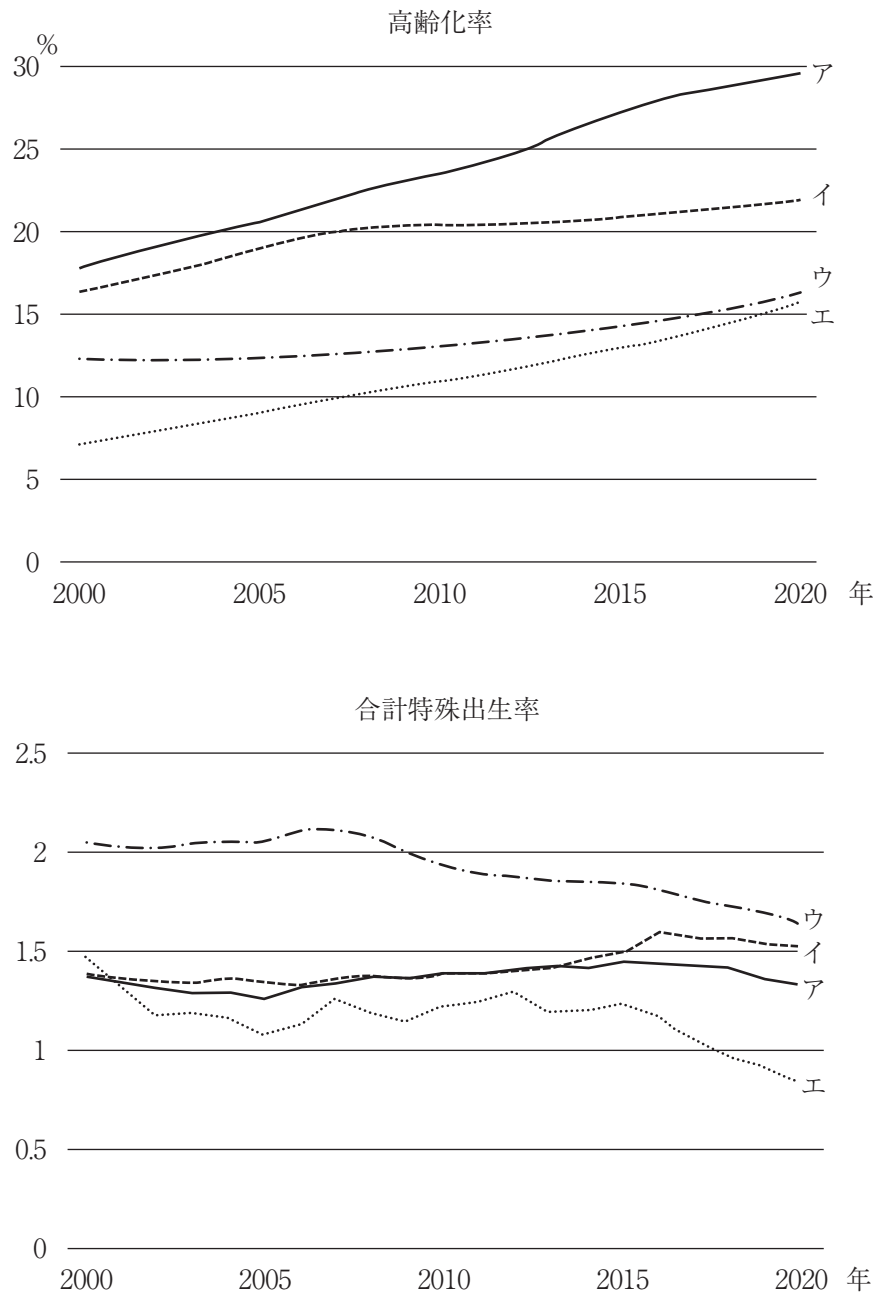
問4 下線部④に関連する記述として、最も適切なものを次の1～4から一つ選びなさい。

17

- 1 2021年から2024年にかけて、日本企業の平均賃金は上昇したが、中央最低賃金審議会の示す最低賃金は連続して低下したので、賃金格差が拡大している。
- 2 労働基準法には同一労働同一賃金が規定されており、同じ企業に勤めていれば正規社員と非正規社員の間に賃金格差は生じない。
- 3 企業の生み出す付加価値総額に占める賃金の割合を労働分配率と呼び、企業の業績が向上しても賃金が増えなければ、労働分配率は低下する。
- 4 近年増加しているフリーランスやギグワーカーは、企業との雇用関係があるため労働基準法の適用を受けるが、実際には法定の労働条件が実現されないことが多い。

問 5 下線部⑤に関連して、次の二つの図のア～エは、日本・アメリカ・ドイツ・韓国の高齢化率（総人口に占める65歳以上人口の割合）と合計特殊出生率（一人の女性が一生に産む子供の数の平均値）を示している。ア～エのうち、日本に当たるものとして、最も適切なものを下の 1～4 から一つ選びなさい。

18



(出所) The World Bank Group, Data Bank により作成。

- 1 ア 2 イ 3 ウ 4 エ

問6 下線部⑥に関連して、現在の日本における少子化対策についての記述として、最も適切なものを次の1～4から一つ選びなさい。

19

- 1 2024年10月に児童手当制度が変更され、所得制限限度額が引き上げられ、支給対象年齢が引き下げられて小学生までとなった。
- 2 幼児を対象として幼稚園・保育所・認定こども園が設けられているが、これらの利用料には所得制限や限度額が設けられているものの、原則として無料化されている。
- 3 高等教育の無償化は国際人権規約に定められているが、日本は現在もこの条項を留保しているため、当面は実現の可能性がない。
- 4 育児・介護休業法では、原則として1歳未満の子供を養育する女性にのみ育児休業の取得を認めているので、男性の育児参加の保障が課題となっている。

問7 下線部⑦に関連して、医療に関する社会保障制度についての次の記述ア～ウの正誤の組合せとして、最も適切なものを下の1～6から一つ選びなさい。

20

- ア 後期高齢者医療制度は、75歳以上の高齢者を対象として、医療費を全額公費で負担している。
 イ 医療保険にはすべての国民が加入しているが、健康保険・国民健康保険など制度は分立している。
 ウ 業務上の災害に関わる医療費については労災保険があり、保険料は事業主のみが負担している。

- 1 アー正 イー正 ウー誤
- 3 アー正 イー誤 ウー誤
- 5 アー誤 イー正 ウー誤

- 2 アー正 イー誤 ウー正
- 4 アー誤 イー正 ウー正
- 6 アー誤 イー誤 ウー正

問8 下線部⑧に関連して、介護保険制度についての記述として、最も適切なものを次の1～4から一つ選びなさい。

21

- 1 介護保険制度は市町村が運営の主体となり、20歳以上の全国民が加入している。
- 2 基準に応じた介護サービスを受けるためには、要介護認定を受ける必要がある。
- 3 介護サービスは市町村が提供し、その費用は、全額介護保険から支払われる。
- 4 対象となる介護サービスは施設介護や通所介護で、訪問介護などの居宅サービスは含まれない。

問9 下線部⑨に関連して、現行の年金制度についての記述として、最も適切なものを次の1～4から一つ選びなさい。

22

- 1 年金財源の調達には、退職世代の年金財源を現役世代が負担する賦課方式と、自ら支払った保険料を積み立てて自らの年金財源とする積立方式があるが、現在は積立方式がとられている。
- 2 物価上昇による年金の目減りを防ぐため、物価上昇率と年金支給額の増加率を等しくするマクロ経済スライドが導入されている。
- 3 近年の社会保障給付費を見ると、高齢化の進展とともに、年金の給付が医療に関する給付に次いで2番目に多くなった。
- 4 対象となる国民に加入が義務づけられる公的年金制度には、全国民を対象とする国民年金（基礎年金）と、民間被用者や公務員などを対象とする厚生年金の二種類がある。

問10 下線部⑩に関連して、社会保障制度の歴史についての記述として、最も適切なものを次の1～4から一つ選びなさい。

23

- 1 17世紀イギリスのエリザベス救貧法が社会保険の起源と言われ、19世紀ドイツでビスマルクの作った諸制度が公的扶助の起源と言われる。
- 2 アメリカでニューディール政策の一環として1935年に制定された連邦社会保障法は、「社会保障」という言葉を初めて法律名に使い、社会保険と公的扶助をともに含んでいた。
- 3 1942年にイギリスで出されたベバリッジ報告は、自助努力を重視し、医療保険は民間の保険制度を基本とするという独特の制度を提言した。
- 4 ILO（国際労働機関）が1944年に採択したポツダム宣言には、社会保障の国際的基準が示されている。

問11 下線部⑪に関連して、2024年度当初予算歳出において、社会保障関係費に次いで大きな金額の項目として、最も適切なものを次の1～4から一つ選びなさい。

24

- | | |
|-------------|-----------|
| 1 地方交付税交付金等 | 2 公共事業関係費 |
| 3 国債費 | 4 防衛関係費 |

問12 下線部⑫に関連して、このような個人の資産形成への投資を促進する政策として、適切でないものを次の1～4から一つ選びなさい。

25

- 1 資産価値の値上がりで得られるキャピタルゲインに課税する。
- 2 学校への金融教育導入によって、金融リテラシーを育成する。
- 3 株式などの売却益と配当への税率を、一定の範囲で非課税とする少額投資非課税制度を強化する。
- 4 金融機関に、金融商品の運用成績やリスクなどに関する情報開示の徹底を促す。

問13 下線部⑬に関連して、次の文章は、現行の高年齢者雇用安定法の一部を引用したものである。空欄
 A B に入る数字の組合せとして、最も適切なものを下の1～4から一つ選びなさい。ただし、法律の漢数字の表記を洋数字に改めてある。 26

第九条 定年（ A 歳未満のものに限る。以下この条において同じ。）の定めをしている事業主は、その雇用する高年齢者の A 歳までの安定した雇用を確保するため、次の各号に掲げる措置（以下「高年齢者雇用確保措置」という。）のいずれかを講じなければならない。

- 一 当該定年の引上げ
- 二 継続雇用制度（現に雇用している高年齢者が希望するときは、当該高年齢者をその定年後も引き続き雇用する制度をいう。以下同じ。）の導入
- 三 当該定年の定め廃止

第十条の二 定年（ A 歳以上 B 歳未満のものに限る。以下この条において同じ。）の定めをしている事業主又は継続雇用制度（高年齢者を B 歳以上まで引き続いて雇用する制度を除く。以下この項において同じ。）を導入している事業主は、その雇用する高年齢者（中略）について、次に掲げる措置を講ずることにより、 A 歳から B 歳までの安定した雇用を確保するよう努めなければならない。

- | | |
|---|---|
| <p>1 <input type="text"/> A 60 <input type="text"/> B 65</p> | <p>2 <input type="text"/> A 60 <input type="text"/> B 70</p> |
| <p>3 <input type="text"/> A 65 <input type="text"/> B 70</p> | <p>4 <input type="text"/> A 65 <input type="text"/> B 75</p> |

Ⅲ 次の文章を読み、下の問いに答えなさい。

東西冷戦の終結後も、国際秩序の安定への期待とは裏腹に各地で紛争が絶えず、いったん希望を抱かせた緊張緩和への動きが中断した事例もある。また、近年は一部の国で、排外主義や自国中心主義も広がっている。

このように依然として不安定な国際情勢の中で多くの難民が発生し、UNHCR（国連難民高等弁務官事務所）によれば、2023年末の時点で難民の数は約4340万人に上る。このほか、国内避難民が約6830万人、これらを含む迫害、紛争、暴力、人権侵害などによって故郷を追われた人の数を合計すれば約1億1730万人という驚くべき数字になる。このような難民や国外移民の受け入れ先は特定の国に集中し、排外主義などを掲げるポピュリズムが広がる一因となっている。

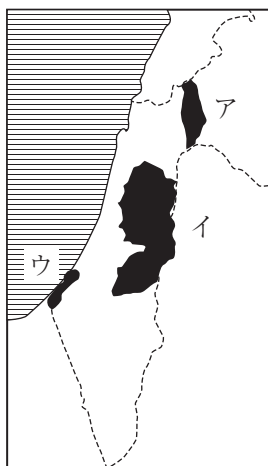
このような難民の増大を防ぐためには、国際紛争や地域紛争の防止とともに、国際経済の安定、発展途上国の開発、地球環境の保全、人権の尊重などを推進する枠組みの拡充も図らなければならない。とくに近年は、大国が自国産業保護や経済安全保障を名目としてグローバル化や地域的経済統合を否定する動きが見られ、各国経済の切り離しすら主張されている。また、大国となった新興国の一部では、強権支配が進められている。

近年の国際社会はこのような混迷の度合いを深めているとはいえ、第二次世界大戦後に築かれてきた国際秩序維持の仕組みは基本的に健在である。これを生かしながら、国際社会の安定と繁栄を実現するのが、われわれの努力すべき方向であろう。

問1 下線部①に関連して、下の地図はイスラエルをめぐる最近の情勢を図示したものである。この地図に関する次の説明文の空欄 ～ に入る語句の組合せとして、最も適切なものを下の1～6から一つ選びなさい。

27

地図中の に当たるガザ地区を統治していたイスラム組織 が、2023年10月にイスラエルに対する大規模な奇襲攻撃を開始した。これに対してイスラエルは、直ちにこれを超える規模の反撃を実施し、ガザ地区の住宅の半数以上が壊滅状態となったといわれる。さらに、隣国レバノンに拠点を置くイスラム組織 も、2024年7月に司令官を殺害したイスラエルに対して、大規模な報復攻撃を行った。



- | | | | |
|---|----------------------------------|-------------------------------------|-------------------------------------|
| 1 | <input type="text" value="A"/> ア | <input type="text" value="B"/> ヒズボラ | <input type="text" value="C"/> ハマース |
| 2 | <input type="text" value="A"/> ア | <input type="text" value="B"/> ハマース | <input type="text" value="C"/> ヒズボラ |
| 3 | <input type="text" value="A"/> イ | <input type="text" value="B"/> ヒズボラ | <input type="text" value="C"/> ハマース |
| 4 | <input type="text" value="A"/> イ | <input type="text" value="B"/> ハマース | <input type="text" value="C"/> ヒズボラ |
| 5 | <input type="text" value="A"/> ウ | <input type="text" value="B"/> ヒズボラ | <input type="text" value="C"/> ハマース |
| 6 | <input type="text" value="A"/> ウ | <input type="text" value="B"/> ハマース | <input type="text" value="C"/> ヒズボラ |

問2 下線部②に関連する記述として、最も適切なものを下の1～8から一つ選びなさい。

28

- 1 アメリカとロシアは、2010年に新 START（戦略兵器削減条約）に調印して翌年発効したが、ウクライナ侵攻のあと、ロシアが2023年に履行を停止した。
- 2 2017年に、核兵器禁止条約が国連総会で採択されたが、批准する国の数が基準を下回っているため、現在でも発効の見通しは立っていない。
- 3 2011年に、中東・北アフリカで「アラブの春」と呼ばれる民主化要求運動が広がったが、この運動によって崩壊した独裁政権はなかった。
- 4 1991年の湾岸戦争によってイラクのフセイン独裁政権が倒れたが、その後も現在まで安定した民主政権は成立していない。

問3 下線部③に関連して、自民族の文化を最も優れたものと考え、他民族の文化や生活様式などを劣ったものとして否定するような考えを示す語句として、最も適切なものを下の1～8から一つ選びなさい。

29

- | | |
|---------------|-------------|
| 1 マルチカルチュラリズム | 2 エスノセントリズム |
| 3 インクルージョン | 4 ダイバーシティ |

問4 下線部④に関連する記述として、**適切でないもの**を次の1～4から一つ選びなさい。

30

- 1 難民を迫害する恐れのある国に、難民を追放・送還してはならないという原則を、ノン・ルフールマンの原則と呼ぶ。
- 2 政情や治安が不安定な近隣国に逃れた難民を、より安定した別の国に送って長期的な滞在を認める制度を、第三国定住と呼ぶ。
- 3 日本は難民条約を批准し、出入国管理及び難民認定法を制定しているが、実際の難民受け入れ数はG7諸国の中で最も少ない。
- 4 難民条約では、人種・民族・宗教などを理由として外国に逃れた人のほか、経済的理由や環境悪化によって国を離れた人も、難民として保護と救済の対象としている。

問5 下線部⑤に関連して、UNHCRは国連総会によって設置された機関だが、同じく総会が設置した次の機関の英語の略称A～Cと、その活動内容の説明ア～ウの組合せとして、最も適切なものを下の1～6から一つ選びなさい。

31

A UNCTAD

B UNDP

C UNICEF

- ア 国連開発計画の略称で、人間開発指数を算出するなど、発展途上国の貧困、格差、気候変動などの問題に取り組んでいる。
- イ 国連貿易開発会議の略称で、発展途上国の開発と貿易、資金、技術、投資などを進めるため、4年に1回開催されている。
- ウ 国連児童基金の略称で、現在は主として発展途上国の子どもや母親に、長期の人道援助や開発援助を行っている。

1 A－ア B－イ C－ウ

2 A－ア B－ウ C－イ

3 A－イ B－ア C－ウ

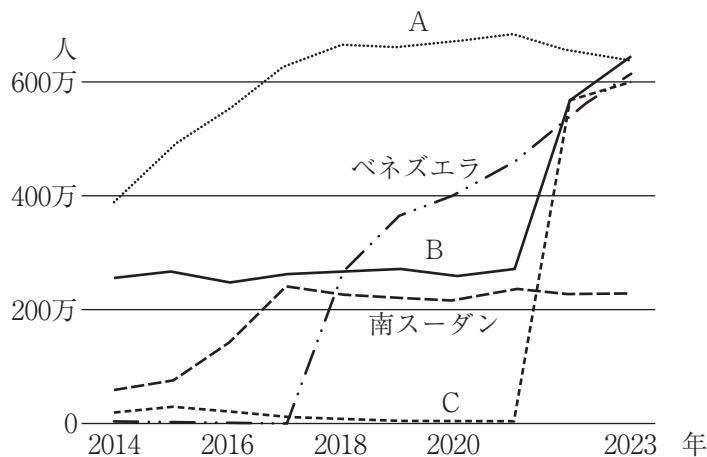
4 A－イ B－ウ C－ア

5 A－ウ B－ア C－イ

6 A－ウ B－イ C－ア

問6 下線部⑥に関連して、次の図は、難民、難民に準じた状況にある人々、国際的な保護を必要とする人々の合計数の推移を、主な出身国別に示したものである。図中のA～Cに当たる国名の組合せとして、最も適切なものを下の1～6から一つ選びなさい。

32



(出所) UNHCR, Global Trends report 2023 により作成。

- | | | |
|-------------|-----------|-----------|
| 1 A—アフガニスタン | B—シリア | C—ウクライナ |
| 2 A—アフガニスタン | B—ウクライナ | C—シリア |
| 3 A—シリア | B—アフガニスタン | C—ウクライナ |
| 4 A—シリア | B—ウクライナ | C—アフガニスタン |
| 5 A—ウクライナ | B—アフガニスタン | C—シリア |
| 6 A—ウクライナ | B—シリア | C—アフガニスタン |

問7 下線部⑦に関連して、難民、難民に準じた状況にある人々、国際的な保護を必要とする人々の受入人数が、2023年末に約260万人に達して世界第4位になった欧米の国がある (UNHCR, Global Trends report 2023)。その国名として、最も適切なものを次の1～4から一つ選びなさい。

33

- | | | | |
|--------|-------|--------|--------|
| 1 アメリカ | 2 ドイツ | 3 イタリア | 4 フランス |
|--------|-------|--------|--------|

問8 下線部⑧に関連して、国際紛争などの脅威に対して従来のように武力を用いて対処するだけでなく、「人間一人ひとりに着目し、生存・生活・尊厳に対する広範かつ深刻な脅威から人々を守り、それぞれの持つ豊かな可能性を実現するために、保護と能力強化を通じて持続可能な個人の自立と社会づくりを促す考え方」(日本外務省 Web ページによる) が示され、これに沿った国際社会の取組みが行われている。このような考え方を表わす語句として、最も適切なものを次の1～4から一つ選びなさい。

34

- | | |
|-----------|------------|
| 1 人道的介入 | 2 平和のための結集 |
| 3 人間の安全保障 | 4 平和共存 |

問9 下線部⑨に関連して、次の地域名A・Bと、地域紛争についての記述ア～ウの組合せとして、最も適切なものを下の1～6から一つ選びなさい。

35

A コソボ

B カシミール

ア ソ連が侵攻してイスラム反政府勢力との戦闘が激化し、ソ連が撤退したあとはイスラム勢力の間で内戦となった。その結果成立したイスラム政権は、アメリカの軍事介入によって崩壊した。しかし、アメリカが撤退すると、再び同じイスラム政権が復活した。

イ 第二次世界大戦後に成立した多民族国家に属し、この地域は自治州となった。その多民族国家が分裂したときに、自治州は独立を宣言して旧支配国と紛争となった。自治州の独立は、日本を含む100以上の国に承認されたが、旧支配国の政府は独立を認めていない。

ウ 植民地から独立する際に、宗教の違いによって二つの国家が生まれた。そのとき、この地域は住民の多数派とは異なる信仰を持つ国民の多い国家に編入された。そこで、独立後の二つの国家がそれぞれこの地域を自国に属すると主張して紛争が続いている。

1 Aーア Bーイ

2 Aーア Bーウ

3 Aーイ Bーア

4 Aーイ Bーウ

5 Aーウ Bーア

6 Aーウ Bーイ

問10 下線部⑩に関連する記述として、適切なでないものを次の1～4から一つ選びなさい。

36

- 1 発展途上国の貧困削減のために NGO（非政府組織）も活動しており、例えば途上国の産品を適正価格で継続して先進国に輸入するフェアトレードに従事する組織も多い。
- 2 日本では ODA（政府開発援助）の方針として開発協力大綱を定め、ODA の運用にあたって、日本の国益の確保や戦略性強化の方針が示されている。
- 3 バングラデシュのグラミン銀行は、貧困層を BOP 市場として重視する先進国企業から多額の資金を導入し、大規模な工業団地の建設などを進めている。
- 4 SDGs（持続可能な開発目標）は、従来のような発展途上国への援助だけでなく、先進国と途上国が一体となって地球規模の課題に取り組むことをめざしている。

問11 下線部⑪に関連する記述として、最も適切なものを次の1～4から一つ選びなさい。

37

- 1 2020年から新型コロナウイルスのパンデミックが本格的に始まると、人の移動が制限されたにもかかわらず、自国産業への外国人労働者の受け入れを拡大した国が多く見られた。
- 2 日本では、2022年に経済安全保障推進法が制定され、食料確保のために農産物輸入を拡大する方針が示されている。
- 3 アメリカで2017年にトランプ政権が発足すると、中国との貿易赤字を理由として、アメリカ製の半導体など先端技術製品の輸入拡大を中国側に求めている。
- 4 イギリスは、移民政策や経済政策などでEU（欧州連合）の方針にしばられたくないという世論が高まり、国民投票の結果、2020年にEUを離脱した。

問12 下線部⑫に関連して、このような経済の切り離しなどを意味する語句として、最も適切なものを次の1～4から一つ選びなさい。

38

- | | |
|-----------------------|----------------------|
| 1 デカップリング（decoupling） | 2 デフォルト（default） |
| 3 デタント（détente） | 4 デフレーション（deflation） |

問13 下線部⑬に関連する次の記述ア～ウの正誤の組合せとして、最も適切なものを下の1～6から一つ選びなさい。

39

- ア ワルシャワ条約機構が2014年にウクライナ東部紛争に特別監視団を派遣するなど、地域機構による平和と安全を確保する活動も行われている。
- イ PKO（国連平和維持活動）は国連憲章に明記されていない活動で、平和維持軍や停戦監視団、選挙監視団などを派遣して、紛争の鎮静化や解決を支援している。
- ウ 国際連合は集団安全保障方式による平和維持を基本としており、集団的自衛権の行使や、平和や安全維持に関する地域的取極を認めていない。

- | | | | | | |
|-------|-----|-----|-------|-----|-----|
| 1 アー正 | イー正 | ウー誤 | 2 アー正 | イー誤 | ウー正 |
| 3 アー正 | イー誤 | ウー誤 | 4 アー誤 | イー正 | ウー正 |
| 5 アー誤 | イー正 | ウー誤 | 6 アー誤 | イー誤 | ウー正 |

数学 I ・ 数学 A

数学 I ・ 数学 A の解答方法

問題の文中の $\boxed{\text{⑬}}$, $\boxed{\text{⑳㉑}}$ などの $\boxed{}$ には, 数値または符号 (-) が入る. これらを次の方法で解答用紙の指定欄に解答せよ.

- (1) ⑬, ⑳, ㉑, …… の一つ一つは, それぞれ 0 から 9 までの数字, または - のいずれか一つに対応する. それらを 19, 20, 21, …… で示された解答欄にマークせよ.

〔例〕 $\boxed{\text{㉑㉒}}$ に - 7 と答えたいとき

20	<input type="text"/>	<input type="text"/>	<input type="text"/>	<input type="text"/>	<input type="text"/>	<input type="text"/>	<input type="text"/>	<input type="text"/>	<input type="text"/>	<input type="text"/>	<input type="text"/>	<input type="text"/>
	1	2	3	4	5	6	7	8	9	0	-	
21	<input type="text"/>	<input type="text"/>	<input type="text"/>	<input type="text"/>	<input type="text"/>	<input type="text"/>	<input type="text"/>	<input type="text"/>	<input type="text"/>	<input type="text"/>	<input type="text"/>	<input type="text"/>
	1	2	3	4	5	6	-	8	9	0	-	

- (2) 分数形で解答が求められているときは, 既約分数で答えよ. 符号は分子につけ, 分母につけてはいけない.

〔例〕 $\frac{\boxed{\text{㉑㉒}}}{\boxed{\text{㉓}}}$ に $-\frac{4}{3}$ と答えたいとき

8	<input type="text"/>	<input type="text"/>	<input type="text"/>	<input type="text"/>	<input type="text"/>	<input type="text"/>	<input type="text"/>	<input type="text"/>	<input type="text"/>	<input type="text"/>	<input type="text"/>	<input type="text"/>
	1	2	3	4	5	6	7	8	9	0	-	
9	<input type="text"/>	<input type="text"/>	<input type="text"/>	<input type="text"/>	<input type="text"/>	<input type="text"/>	<input type="text"/>	<input type="text"/>	<input type="text"/>	<input type="text"/>	<input type="text"/>	<input type="text"/>
	1	2	3	-	5	6	7	8	9	0	-	
10	<input type="text"/>	<input type="text"/>	<input type="text"/>	<input type="text"/>	<input type="text"/>	<input type="text"/>	<input type="text"/>	<input type="text"/>	<input type="text"/>	<input type="text"/>	<input type="text"/>	<input type="text"/>
	1	2	-	4	5	6	7	8	9	0	-	

- (3) $\boxed{}$ の前に + があっても, $\boxed{}$ 内に - が入る答があることに注意すること.

〔例〕 $x^2 + \boxed{\text{㉑㉒}} x$ の正解が $x^2 - 2x$ のとき

29	<input type="text"/>	<input type="text"/>	<input type="text"/>	<input type="text"/>	<input type="text"/>	<input type="text"/>	<input type="text"/>	<input type="text"/>	<input type="text"/>	<input type="text"/>	<input type="text"/>	<input type="text"/>
	1	2	3	4	5	6	7	8	9	0	-	
30	<input type="text"/>	<input type="text"/>	<input type="text"/>	<input type="text"/>	<input type="text"/>	<input type="text"/>	<input type="text"/>	<input type="text"/>	<input type="text"/>	<input type="text"/>	<input type="text"/>	<input type="text"/>
	1	-	3	4	5	6	7	8	9	0	-	

- (4) 根号を含む形で解答する場合は, 根号の中に現われる自然数が最小となる形で答えよ.

例えば, $4\sqrt{2}$, $\frac{\sqrt{13}}{2}$ と答えるところを $2\sqrt{8}$, $\frac{\sqrt{52}}{4}$ のように答えてはならない.

I 次の問いに答えよ.

- (1) $x > 0$ かつ $x - \frac{1}{x} = \sqrt{3}$ を満たす実数 x について

$$x^2 + \frac{1}{x^2} = \boxed{\text{①}}, \quad x + \frac{1}{x} = \sqrt{\boxed{\text{②}}}$$

であり,

$$x^3 + \frac{1}{x^3} = \boxed{\text{③}} \sqrt{\boxed{\text{④}}}$$

である.

- (2) 小さい方から順に並んだ7つの値のデータについて考える. ただし, a は実数の定数である.

24, 26, 34, 35, 37, a , 46

データの中央値は $\boxed{\text{⑤⑥}}$ であり, その四分位範囲が17であるとき, $a = \boxed{\text{⑦⑧}}$ である.

- (3) n を自然数として, 実数 m を

$$m = \frac{5n-4}{n-4}$$

と定める.

m が自然数となるような自然数 n は全部で $\boxed{\text{⑨}}$ 個あり, そのような n のうちで最小のものは

$\boxed{\text{⑩}}$ で, 最大のものは $\boxed{\text{⑪⑫}}$ である.

Ⅱ 次の問いに答えよ.

放物線 $C: y = -2x^2 + 24x - 76$ の軸は直線 $x = \boxed{\text{⑬}}$ である. また, 放物線 C の頂点の座標は $(\boxed{\text{⑭}}, \boxed{\text{⑮⑯}})$ である.

C の頂点を x 軸に関して対称移動した点を P とする.

a, b を実数の定数として, 放物線 $K: y = 2x^2 + ax + b$ の頂点が P と一致するとき, a, b の値は $a = \boxed{\text{⑰⑱⑲}}, b = \boxed{\text{⑳㉑}}$ である.

このとき, K を x 軸方向に $\boxed{\text{㉒㉓}}$, y 軸方向に $\boxed{\text{㉔㉕}}$ だけ平行移動すると, K は放物線 $y = \boxed{\text{㉖}}x^2$ となる.

Ⅲ 次の問いに答えよ.

円に内接する四角形 $ABCD$ があり, $AB=4$, $BC=3$, $CD=2$, $DA=4$ である.

$\angle ABC = \theta$ として三角形 ABC に注目すると, AC^2 は $\cos \theta$ を用いて

$$AC^2 = \boxed{27} \boxed{28} - \boxed{29} \boxed{30} \cos \theta$$

と表せる. また, 三角形 ACD に注目することにより AC^2 を $\cos \theta$ を用いて表すことができる.

$$\cos \theta = \frac{\boxed{31}}{\boxed{32}} \text{ となり } AC = \sqrt{\boxed{33} \boxed{34}} \text{ である.}$$

また, 線分 AC と線分 BD の交点を E とすると

$$AE = \frac{\boxed{35} \sqrt{\boxed{36} \boxed{37}}}{\boxed{38} \boxed{39}}$$

である.

Ⅳ 次の問いに答えよ.

白球 4 個, 黒球 3 個, 赤球 2 個, 青球 1 個の合計 10 個の球が入っている袋から 3 個の球を同時に取り出す. 同じ色の球も区別すると, 10 個の球から 3 個の球を同時に取り出す方法は $\boxed{\textcircled{40}\textcircled{41}\textcircled{42}}$ 通りあって, これらは同様に確からしいとする.

3 個とも同じ色の球である確率は $\frac{\boxed{\textcircled{43}}}{\boxed{\textcircled{44}\textcircled{45}}}$ である.

3 個の球の色が 3 色である確率は $\frac{\boxed{\textcircled{46}}}{\boxed{\textcircled{47}\textcircled{48}}}$ である.

3 個の球の色が 2 色である確率は $\frac{\boxed{\textcircled{49}\textcircled{50}}}{\boxed{\textcircled{51}\textcircled{52}}}$ である.

数学おわり 解答番号 $\boxed{\textcircled{1}}$ ～ $\boxed{\textcircled{52}}$

2025年度一般試験・前期 解答例

国語		
解答 番号	解答例	
	1/21	1/31
1	4	2
2	1	5
3	6	3
4	3	6
5	2	1
6	2	4
7	5	5
8	1	5
9	4	1
10	1	2
11	3	2
12	2	1
13	2	2
14	2	1
15	1	2
16	1	2
17	3	5
18	5	4
19	2	1
20	4	5
21	2	2
22	3	3
23	5	1
24	3	4
25	3	1
26	5	3
27	1	2
28	2	4
29	4	4
30	6	1
31	1	2
32	2	6
33	4	4
34	3	7
35	3	4
36	7	2
37	5	5
38	2	4
39	1	3
40		
41		

英語		
解答 番号	解答例	
	1/21	1/31
1	3	4
2	2	2
3	4	3
4	4	4
5	3	3
6	4	1
7	1	1
8	2	1
9	1	1
10	1	2
11	3	3
12	1	4
13	3	4
14	2	2
15	3	1
16	4	3
17	1	2
18	1	3
19	2	1
20	4	4
21	2	2
22	3	4
23	1	1
24	3	1
25	3	4
26	4	4
27	1	3
28	3	3
29	1	3
30	2	2
31	4	2
32	2	3
33	4	1
34	1	1
35	3	4
36	3	3
37	4	3
38	2	3

日本史		
解答 番号	解答例	
	1/21	1/31
1	1	2
2	1	3
3	4	3
4	2	4
5	1	1
6	6	4
7	2	3
8	3	3
9	2	1
10	4	5
11	2	1
12	4	1
13	1	4
14	1	2
15	1	3
16	4	3
17	2	3
18	3	2
19	3	1
20	2	4
21	2	2
22	4	1
23	4	6
24	3	1
25	1	3
26	2	3
27	4	2
28	2	4
29	4	1
30	3	2
31	5	2
32	1	4
33	2	1
34	1	1
35	1	4
36	3	4
37	4	3
38	3	2
39	2	1
40	4	4
41	2	2
42	1	2

世界史		
解答 番号	解答例	
	1/21	1/31
1	3	3
2	2	3
3	2	2
4	2	4
5	3	3
6	2	2
7	1	1
8	2	4
9	4	2
10	4	1
11	3	4
12	1	2
13	1	3
14	3	4
15	3	1
16	1	3
17	3	2
18	1	3
19	3	2
20	1	2
21	2	3
22	2	2
23	1	1
24	1	2
25	3	1
26	2	4
27	3	4
28	3	1
29	3	3
30	4	3
31	4	1
32	1	3
33	4	1
34	2	4
35	3	1
36	3	4
37	4	4
38	1	2
39	2	4
40	1	2

政治・経済		
解答 番号	解答例	
	1/21	1/31
1	2	2
2	1	4
3	4	4
4	2	1
5	3	3
6	2	1
7	3	3
8	1	2
9	2	2
10	2	1
11	1	4
12	3	4
13	4	5
14	3	2
15	5	1
16	2	2
17	3	3
18	4	1
19	2	2
20	4	4
21	1	2
22	2	4
23	1	2
24	1	3
25	1	1
26	3	3
27	4	6
28	3	1
29	2	2
30	6	4
31	1	3
32	2	3
33	2	2
34	4	3
35	4	4
36	6	3
37	3	4
38	3	1
39	2	5

数学		
解答 番号	解答例	
	1/21	1/31
1	2	5
2	3	7
3	3	4
4	0	7
5	3	3
6	1	5
7	9	4
8	2	3
9	5	5
10	5	5
11	1	2
12	5	0
13	2	6
14	4	6
15	4	－
16	－	4
17	3	－
18	0	2
19	1	4
20	4	7
21	0	6
22	1	－
23	1	6
24	2	－
25	6	4
26	0	2
27	1	2
28	0	5
29	3	2
30	7	4
31	3	1
32	3	8
33	3	2
34	3	2
35	6	8
36	0	2
37	5	2
38	1	1
39	2	1
40	7	1
41	1	2
42	2	0
43	8	1
44	7	2
45	6	4
46	4	5
47	1	1
48	5	2
49	6	1
50	4	3
51		2
52		4
53		